



Series Z1XYW/1

SET ~ 3

प्रश्न-पत्र कोड

Q.P. Code

31/1/3

रोल नं.

Roll No.

--	--	--	--	--	--	--	--



परीक्षार्थी प्रश्न-पत्र कोड को उत्तर-पुस्तिका के मुख-पृष्ठ पर अवश्य लिखें।

Candidates must write the Q.P. Code on the title page of the answer-book.

- कृपया जाँच कर लें कि इस प्रश्न-पत्र में मुद्रित पृष्ठ 31 हैं।
- प्रश्न-पत्र में दाहिने हाथ की ओर दिए गए प्रश्न-पत्र कोड को परीक्षार्थी उत्तर-पुस्तिका के मुख-पृष्ठ पर लिखें।
- कृपया जाँच कर लें कि इस प्रश्न-पत्र में 39 प्रश्न हैं।
- कृपया प्रश्न का उत्तर लिखना शुरू करने से पहले, उत्तर-पुस्तिका में प्रश्न का क्रमांक अवश्य लिखें।
- इस प्रश्न-पत्र को पढ़ने के लिए 15 मिनट का समय दिया गया है। प्रश्न-पत्र का वितरण पूर्वाह्न में 10.15 बजे किया जाएगा। 10.15 बजे से 10.30 बजे तक परीक्षार्थी केवल प्रश्न-पत्र को पढ़ेंगे और इस अवधि के दौरान वे उत्तर-पुस्तिका पर कोई उत्तर नहीं लिखेंगे।
- Please check that this question paper contains 31 printed pages.
- Q.P. Code given on the right hand side of the question paper should be written on the title page of the answer-book by the candidate.
- Please check that this question paper contains 39 questions.
- Please write down the serial number of the question in the answer-book before attempting it.
- 15 minute time has been allotted to read this question paper. The question paper will be distributed at 10.15 a.m. From 10.15 a.m. to 10.30 a.m., the candidates will read the question paper only and will not write any answer on the answer-book during this period.

विज्ञान

SCIENCE

निर्धारित समय : 3 घण्टे

Time allowed : 3 hours

अधिकतम अंक : 80

Maximum Marks : 80



31/1/3

106 C

— 1 —

P.T.O.



सामान्य निर्देश :

निम्नलिखित निर्देशों को सावधानी से पढ़िए और उनका पालन कीजिए :

- (i) इस प्रश्न-पत्र में 39 प्रश्न हैं। सभी प्रश्न अनिवार्य हैं।
- (ii) यह प्रश्न-पत्र पाँच खण्डों में विभाजित है – खण्ड-क, ख, ग, घ तथा ङ।
- (iii) खण्ड-क में प्रश्न संख्या 1 से 20 तक बहुविकल्पीय प्रकार के एक-एक अंक के प्रश्न हैं।
- (iv) खण्ड-ख में प्रश्न संख्या 21 से 26 तक अति लघु-उत्तरीय प्रकार के दो-दो अंकों के प्रश्न हैं। इन प्रश्नों के उत्तर 30 से 50 शब्दों में दिए जाने चाहिए।
- (v) खण्ड-ग में प्रश्न संख्या 27 से 33 तक लघु-उत्तरीय प्रकार के तीन-तीन अंकों के प्रश्न हैं। इन प्रश्नों के उत्तर 50 से 80 शब्दों में दिए जाने चाहिए।
- (vi) खण्ड-घ में प्रश्न संख्या 34 से 36 तक दीर्घ उत्तरीय प्रकार के पाँच-पाँच अंकों के प्रश्न हैं। इन प्रश्नों के उत्तर 80 से 120 शब्दों में दिए जाने चाहिए।
- (vii) खण्ड-ङ में प्रश्न संख्या 37 से 39 तक स्रोत/प्रकरण इकाई अध्ययन आधारित चार-चार अंकों के प्रश्न (उपप्रश्नों सहित) हैं।
- (viii) प्रश्न-पत्र में समग्र विकल्प नहीं दिया गया है। यद्यपि, कुछ खण्डों में आंतरिक विकल्प दिए गए हैं।



General Instructions :

Read the following instructions carefully and strictly follow them :

- (i) *This question paper consists of **39** questions. **All** questions are compulsory.*
- (ii) *Question paper is divided into **FIVE** sections viz. Section **A, B, C, D** and **E**.*
- (iii) *In Section **A** - question number **1** to **20** are Multiple Choice Questions (MCQs) carrying **1** mark each.*
- (iv) *In Section **B** - question number **21** to **26** are Very Short Answer (VSA) type questions carrying **2** marks each. Answer to these questions should be in the range of **30** to **50** words.*
- (v) *In Section **C** - question number **27** to **33** are Short Answer (SA) type questions carrying **3** marks each. Answer to these questions should be in the range of **50** to **80** words.*
- (vi) *In Section **D** - question number **34** to **36** are Long Answer (LA) type questions carrying **5** marks each. Answer to these questions should be in the range of **80** to **120** words.*
- (vii) *In Section **E** - question number **37** to **39** are of 3 source-based/case-based units of assessment carrying **4** marks each with sub-parts.*
- (viii) *There is no overall choice. However, an internal choice has been provided in some Sections.*

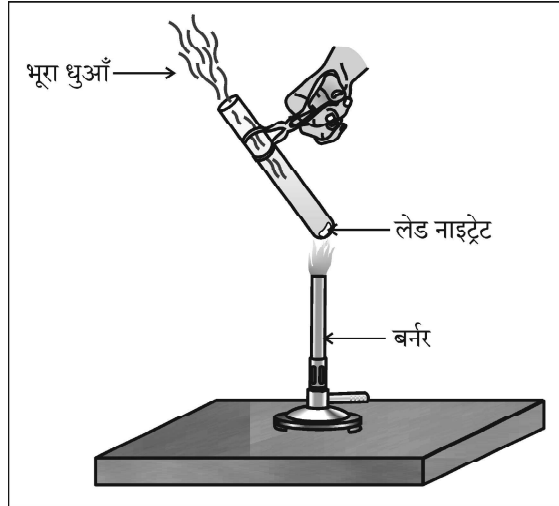


खण्ड – क

प्रश्न 1 से 20 तक के प्रश्नों में दिए गए चार विकल्पों में से सबसे उचित एक विकल्प चुनिए और लिखिए :

1. दी गयी प्रायोगिक व्यवस्था में भूरे धुआँ के उत्सर्जन का कारण

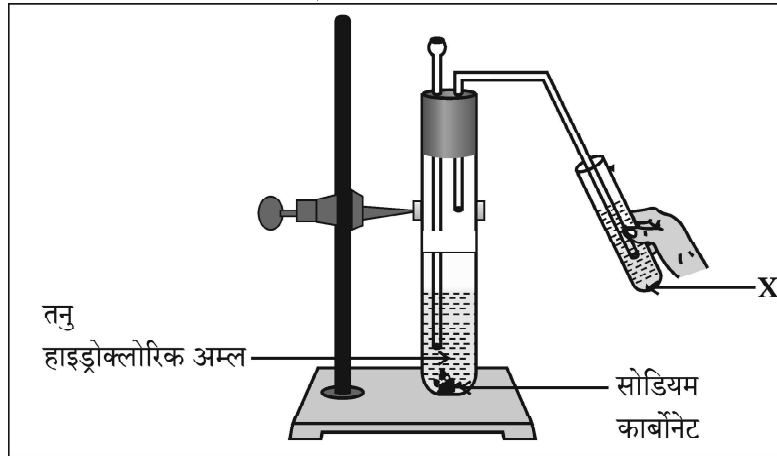
1



- (a) लेड नाइट्रेट का ऊष्मीय वियोजन है जिसमें नाइट्रोजन डाइऑक्साइड का भूरा धुआँ उत्पन्न होता है ।
 (b) लेड नाइट्रेट का ऊष्मीय वियोजन है जिसमें लेड ऑक्साइड का भूरा धुआँ उत्पन्न होता है ।
 (c) लेड नाइट्रेट का उपचयन है जिसमें लेड ऑक्साइड और नाइट्रोजन डाइऑक्साइड बनते हैं ।
 (d) लेड नाइट्रेट का उपचयन है जिसमें लेड ऑक्साइड और ऑक्सीजन बनती है ।

2. दी गयी प्रायोगिक व्यवस्था में प्रेक्षण करने पर यह पाया गया कि अभिक्रिया में उत्पन्न गैस को विलयन 'X' में प्रवाहित करने पर विलयन 'X' पहले दूधिया हो जाता है और फिर रंगहीन हो जाता है ।

1



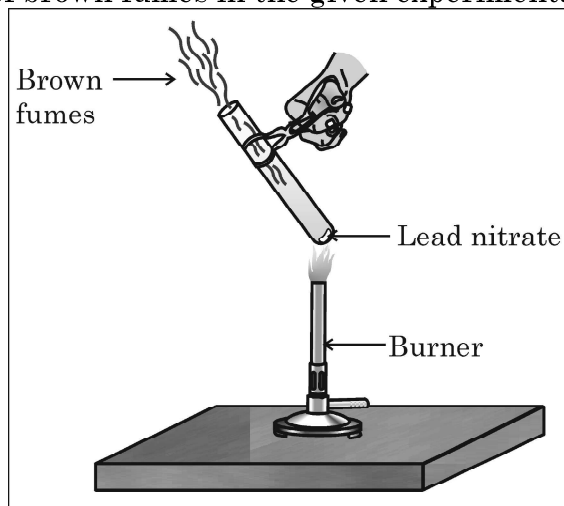
नीचे दिया गया वह विकल्प जो उपरोक्त प्रेक्षण की पुष्टि करता है इस प्रकार है –
 'X' कैल्सियम हाइड्रॉक्साइड का जलीय विलयन है तथा



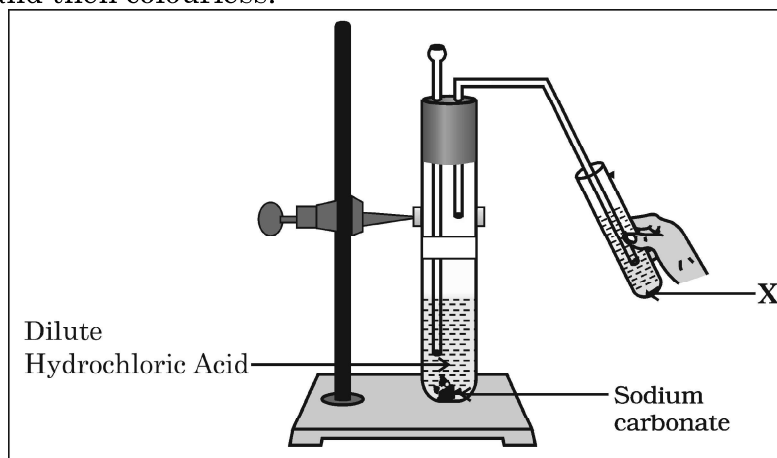
SECTION – A

Select and write one most appropriate option out of the four options given for each of the questions 1 – 20 :

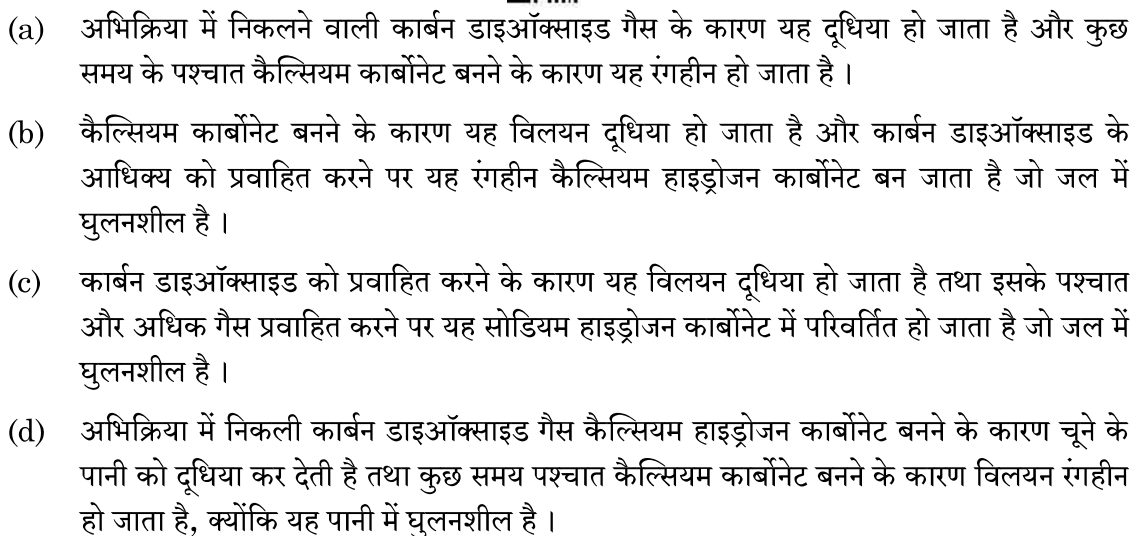
1. The emission of brown fumes in the given experimental set-up is due to 1



- (a) thermal decomposition of lead nitrate which produces brown fumes of nitrogen dioxide.
(b) thermal decomposition of lead nitrate which produces brown fumes of lead oxide.
(c) oxidation of lead nitrate forming lead oxide and nitrogen dioxide.
(d) oxidation of lead nitrate forming lead oxide and oxygen.
2. In the experimental setup given below, it is observed that on passing the gas produced in the reaction in the solution 'X' the solution 'X' first turns milky and then colourless. 1



The option that justifies the above stated observation is that 'X' is aqueous calcium hydroxide and



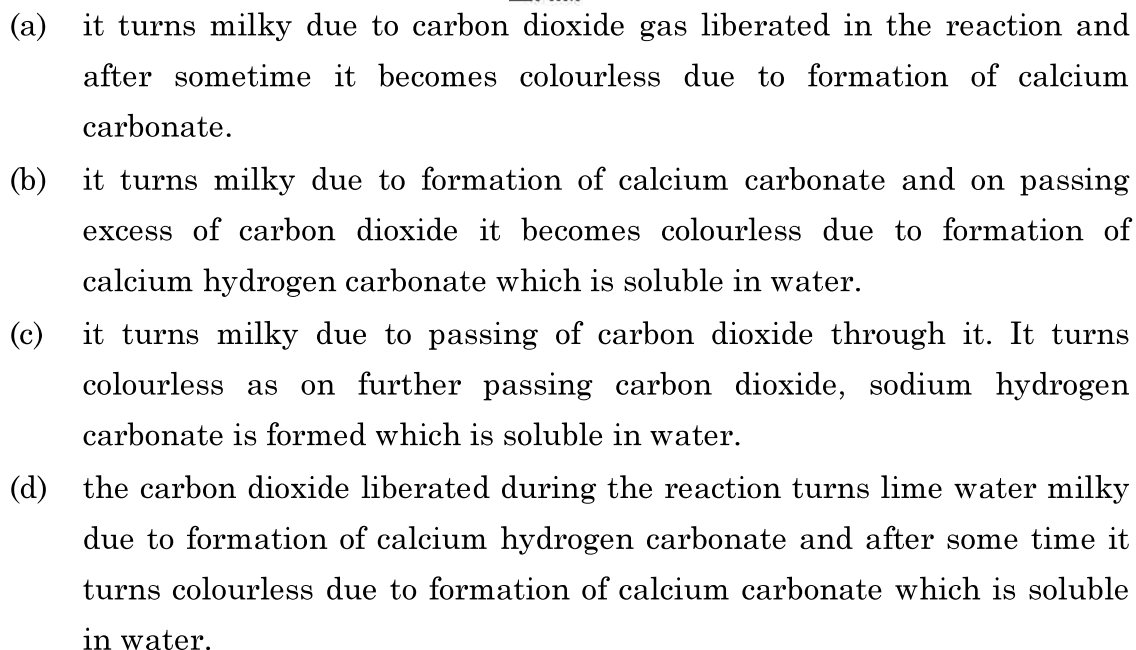
- 1

विकल्प	विलयन	pH पत्र का रंग	pH का सन्निकट मान	विलयन की प्रकृति
(a)	नींबू का रस	नारंगी	3	क्षारकीय
(b)	मिल्क ऑफ मैग्रीशिया	नीला	10	क्षारकीय
(c)	जठर रस	लाल	6	अम्लीय
(d)	शुद्ध जल	पीला	7	उदासीन

- उपरोक्त रासायनिक समीकरण को संतुलित करने के लिए x , y और z के मान होने चाहिए क्रमशः

- (a) 6, 2, 2 (b) 4, 1, 2
(c) 4, 2, 1 (d) 2, 2, 1

- (a) NaHCO_3 (b) $\text{Na}_2\text{CO}_3 \cdot 5\text{H}_2\text{O}$
(c) $\text{Na}_2\text{CO}_3 \cdot 10\text{H}_2\text{O}$ (d) NaOH



- 1**

$$4. \quad \text{MnO}_2 + x \text{HCl} \rightarrow \text{MnCl}_2 + y \text{H}_2\text{O} + z \text{Cl}_2 \quad 1$$

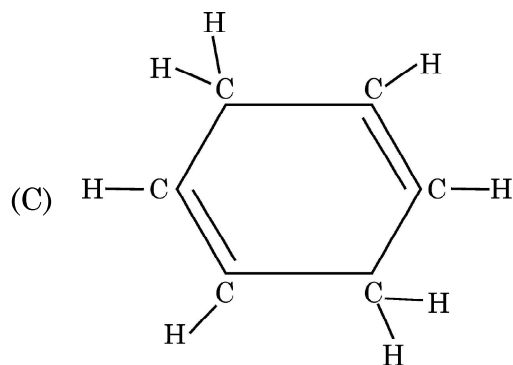
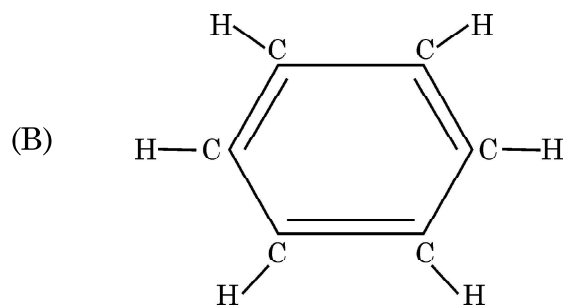
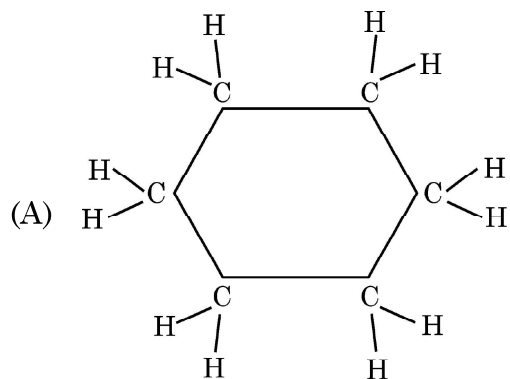
(a) 6, 2, 2 (b) 4, 1, 2
(c) 4, 2, 1 (d) 2, 2, 1

- (a) NaHCO_3 (b) $\text{Na}_2\text{CO}_3 \cdot 5\text{H}_2\text{O}$
(c) $\text{Na}_2\text{CO}_3 \cdot 10\text{H}_2\text{O}$ (d) NaOH



6. नीचे दी गयी तीन चक्रीय कार्बन-यौगिकों A, B और C की संरचनाओं पर विचार कीजिए और निम्नलिखित में से सही विकल्प को चुनिए :

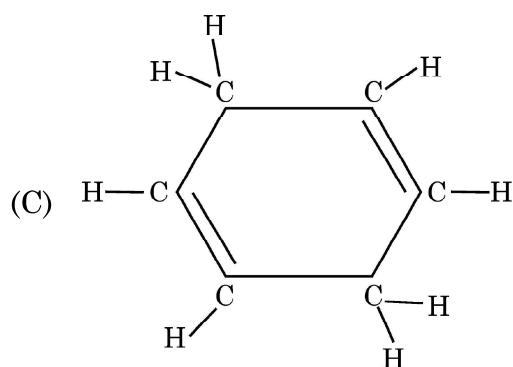
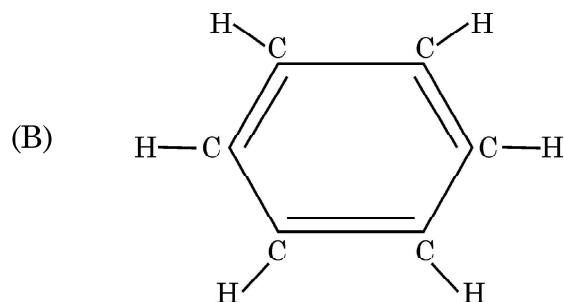
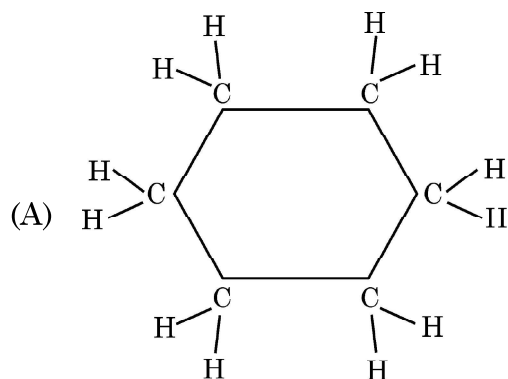
1



- (a) A और C हैक्सेन के समावयव हैं तथा B बेन्जीन है ।
(b) A हैक्सेन का समावयव है, B बेन्जीन है तथा C हैक्सीन का समावयव है ।
(c) A संतृप्त चक्रीय हाइड्रोकार्बन है तथा B और C असंतृप्त चक्रीय हाइड्रोकार्बन हैं ।
(d) A साइक्लोहैक्सेन है तथा B और C बेन्जीन के समावयव हैं ।



6. Consider the structures of the three cyclic carbon compounds A, B and C given below and select the correct option from the following : 1

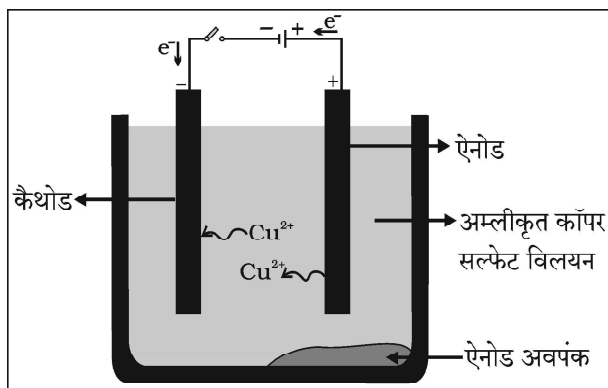


- (a) A and C are isomers of hexane and B is benzene.
- (b) A is an isomer of hexane, B is benzene and C is an isomer of hexene.
- (c) A is a saturated cyclic hydrocarbon and B and C are unsaturated cyclic hydrocarbons.
- (d) A is cyclohexane and B and C are the isomers of benzene.



7. नीचे दिए गए आरेख में कॉपर का विद्युत-अपघटनी परिष्करण दर्शाया गया है :

1



निम्नलिखित में से कौन सा विवरण इस प्रक्रिया के लिए सही नहीं है ?

- ऐनोड पर स्थित अशुद्ध धातु विद्युत-अपघट्य में घुल जाती है ।
 - शुद्ध धातु विद्युत-अपघट्य से कैथोड पर निक्षेपित हो जाती है ।
 - अविलेय अशुद्धियाँ ऐनोड तली पर निक्षेपित हो जाती हैं ।
 - विद्युत-अपघट्य से विद्युत धारा प्रवाहित करने पर शुद्ध धातु ऐनोड से विद्युत-अपघट्य में घुल जाती है ।
8. क्षुद्रांत्र के विषय में नीचे दिए गए कथनों पर विचार कीजिए और इनमें से उस कथन को चुनिए जो सही नहीं है :
- जन्तुओं में क्षुद्रांत्र की लम्बाई भिन्न-भिन्न होती है क्योंकि यह उनके द्वारा खाए जाने वाले भोज्य पदार्थों के प्रकार पर निर्भर करती है ।
 - क्षुद्रांत्र भोज्य पदार्थों के पूर्ण पाचन का स्थल है ।
 - क्षुद्रांत्र लीवर (यकृत) और अग्न्याशय से सावण ग्रहण करती है ।
 - क्षुद्रांत्र के दीर्घरोम गुदा द्वारा शरीर से बाहर किए जाने से पूर्व बिना पचे भोजन से जल को अवशोषित कर लेते हैं ।

1

9. वह जीव जो भोज्य पदार्थों का विघटन शरीर के बाहर ही कर देता है और तब उसका अवशोषण करता है, कौन सा है ?

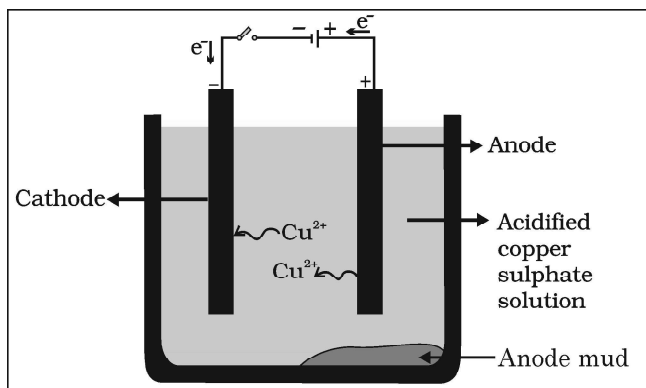
1

- पादप परजीवी, अमरबेल
- जन्तु परजीवी, फीताकृमि
- जीवाणु, राइज़ोबियम
- कवक, राइज़ोपस



7. The following diagram shows the electrolytic refining of copper :

1



Which of the following statements is **incorrect** description of the process ?

- (a) The impure metal from the anode dissolves into the electrolyte.
(b) The pure metal from the electrolyte is deposited on the cathode.
(c) Insoluble impurities settle down at the bottom of the anode.
(d) On passing the current through the electrolyte, the pure metal from the anode dissolves into the electrolyte.
8. Consider the following statements about small intestine and select the one which is **NOT** correct :
- (a) The length of the small intestine in animals differs as it depends on the type of food they eat.
(b) The small intestine is the site of complete digestion of food.
(c) The small intestine receives secretions from liver and pancreas.
(d) The villi of the small intestine absorb water from the unabsorbed food before it gets removed from the body via the anus.
9. An organism which breaks down the food material outside the body and then absorbs it is

1

1

- (a) a plant parasite, Cuscuta (b) an animal parasite, Tapeworm
(c) a bacteria, Rhizobium (d) a fungi, Rhizopus



10. निम्नलिखित में से किस धातु का आर्द्र वायु में संक्षारण नहीं होता है ? 1
- (a) कॉपर
(b) आयरन
(c) गोल्ड
(d) सिल्वर
11. निम्नलिखित में से वह कथन चुनिए जो पौधों में अनुवर्तनी गति के लिए सही है : 1
- (a) यह स्पर्श और ताप के उद्दीपन के कारण होती है ।
(b) यह प्राप्त होने वाले उद्दीपन की दिशा पर निर्भर नहीं करती है ।
(c) यह केवल जड़ों में दिखाई देती है तनों में नहीं ।
(d) यह गति वृद्धि से संबंधित होती है ।
12. निम्नलिखित में से वह कथन चुनिए जो किसी जीन के लक्षण का सही वर्णन करता है : 1
- (a) किसी दी गयी स्पीशीज़ की व्यष्टि में किसी विशेष गुणसूत्र पर कोई विशिष्ट जीन स्थित होता है ।
(b) किसी कोशिका में प्रोटीन बनाने के लिए जीन कोई सूचना स्रोत नहीं है ।
(c) प्रत्येक गुणसूत्र पर उसकी लम्बाई के अनुदिश केवल एक जीन स्थित होता है ।
(d) मानवों में सभी वंशागत लक्षण जीनों द्वारा नियंत्रित नहीं होते हैं ।
13. घरेलू विद्युत परिपथों में 15 A धारा अनुमतांक के तारों का उपयोग उन विद्युत युक्तियों के लिए होता है, जिनका 1
- (a) उच्चतर शक्ति अनुमतांक होता है जैसे गीज़र ।
(b) निम्न शक्ति अनुमतांक होता है जैसे पंखा ।
(c) आवरण धात्विक तथा निम्न शक्ति अनुमतांक होता है ।
(d) आवरण अधात्विक तथा निम्न शक्ति अनुमतांक होता है ।



10. Which of the following metals **do not** corrode in moist air ? 1
- (a) Copper
 - (b) Iron
 - (c) Gold
 - (d) Silver
11. Select from the following the correct statement about tropic movement in plants : 1
- (a) It is due to stimulus of touch and temperature.
 - (b) It does not depend upon the direction of stimulus received.
 - (c) It is observed only in roots and not in stems.
 - (d) It is a growth related movement.
12. The statement that correctly describes the characteristic(s) of a gene is : 1
- (a) In individuals of a given species, a specific gene is located on a particular chromosome.
 - (b) A gene is not the information source for making proteins in the cell.
 - (c) Each chromosome has only one gene located all along its length.
 - (d) All the inherited traits in human beings are not controlled by genes.
13. In domestic electric circuits the wiring with 15 A current rating is for the electric devices which have 1
- (a) higher power ratings such as geyser.
 - (b) lower power ratings such as fan.
 - (c) metallic bodies and low power ratings.
 - (d) non-metallic bodies and low power ratings.



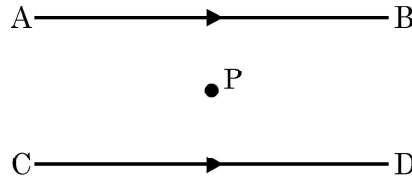
14. चार सर्वसम प्रतिरोधकों जिसमें प्रत्येक का प्रतिरोध 8Ω है, को पहले श्रेणी में संयोजित किया गया है जिससे संयोजन का प्रभावी प्रतिरोध R_s है और फिर उन्हें पार्श्व में संयोजित किया है जिससे संयोजन का प्रभावी प्रतिरोध R_p है, तब अनुपात $\frac{R_s}{R_p}$ है

1

- (a) 32 (b) 2
(c) 0.5 (d) 16

15. दो समान्तर तारों, जो क्षैतिजतः स्थित हैं तथा जिनमें प्रत्येक से कोई स्थायी धारा I प्रवाहित हो रही है, के बीच में स्थित किसी बिन्दु 'P' पर परिणामी चुम्बकीय क्षेत्र

1



- (a) उसी दिशा में होता है जिसमें धारा प्रवाहित हो रही है ।
(b) ऊर्ध्वाधर ऊपर की ओर होता है ।
(c) शून्य होता है ।
(d) ऊर्ध्वाधर नीचे की ओर होता है ।
16. यदि नियत ताप पर किसी प्रतिरोधक से प्रवाहित धारा-I में 100% वृद्धि की जाती है, तो शक्ति क्षय में होने वाली वृद्धि की प्रतिशतता होगी

1

- (a) 100%
(b) 200%
(c) 300%
(d) 400%

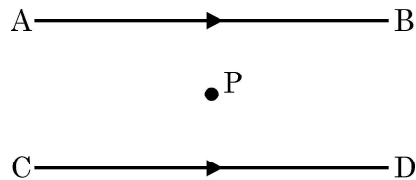


14. If four identical resistors, of resistance 8 ohm, are first connected in series so as to give an effective resistance R_s , and then connected in parallel so

as to give an effective resistance R_p , then the ratio $\frac{R_s}{R_p}$ is 1

- (a) 32 (b) 2
(c) 0.5 (d) 16

15. The resultant magnetic field at point 'P' situated midway between two parallel wires (placed horizontally) each carrying a steady current I is 1



- (a) in the same direction as the current in the wires.
(b) in the vertically upward direction.
(c) zero
(d) in the vertically downward direction.
16. If the current I through a resistor is increased by 100% (at constant temperature), the increase in power dissipated will be 1
- (a) 100%
(b) 200%
(c) 300%
(d) 400%



प्रश्न संख्या 17 से 20 अभिकथन – कारण पर आधारित प्रश्न हैं।

इन प्रश्नों में दो कथन – अभिकथन (A) और कारण (R) दिए गए हैं। इन प्रश्नों के उत्तर नीचे दिए अनुसार उचित विकल्प को चुनकर दीजिए :

- (a) (A) और (R) दोनों सही हैं तथा (R) द्वारा (A) की सही व्याख्या हो रही है।
- (b) (A) और (R) दोनों सही हैं, परन्तु (R) द्वारा (A) की सही व्याख्या नहीं हो रही है।
- (c) (A) सही है, परन्तु (R) गलत है।
- (d) (A) गलत है, परन्तु (R) सही है।

17. अभिकथन (A) : जनकों से वंशागत जीन शिशु का लिंग निर्धारित करते हैं। 1
कारण (R) : नर शिशु में X गुणसूत्र पिता से वंशागत होते हैं।
18. अभिकथन (A) : जब कॉपर सल्फेट के जलीय विलयन में लेड का कोई टुकड़ा डाला जाता है, तो विलयन रंगहीन हो जाता है। 1
कारण (R) : कॉपर की तुलना में लेड अधिक अभिक्रियाशील है, अतः यह कॉपर को उसके लवण-विलयन से विस्थापित कर देता है।
19. अभिकथन (A) : किसी धारावाही वृत्ताकार कुण्डली के केन्द्र पर उत्पन्न चुम्बकीय क्षेत्र की तीव्रता में, कुण्डली में फेरों की संख्या में वृद्धि होने पर, वृद्धि हो जाती है। 1
कारण (R) : कुण्डली के प्रत्येक फेरे में विद्युत धारा के प्रवाह की दिशा समान होती है अतः व्यष्टिगत फेरों के चुम्बकीय क्षेत्र संयोजित हो जाते हैं।
20. अभिकथन (A) : बायाँ अलिन्द फुफ्फुस शिरा से ऑक्सीजनित रुधिर ग्रहण करता है। 1
कारण (R) : दायाँ अलिन्द दायें निलय को अनॉक्सीजनित रुधिर स्थानान्तरित करता है जो उसे ऑक्सीजनन के लिए फुफ्फुस को पम्प कर देता है।



Q. No. 17 to 20 are Assertion – Reason based questions.

These consist of two statements – Assertion (A) and Reason (R). Answer these questions selecting the appropriate option given below :

- (a) Both (A) and (R) are true and (R) is the correct explanation of (A).
- (b) Both (A) and (R) are true, but (R) is not the correct explanation of (A).
- (c) (A) is true, but (R) is false.
- (d) (A) is false, but (R) is true.

17. **Assertion (A) :** Genes inherited from the parents decide the sex of a child. 1

Reason (R) : X chromosome in a male child is inherited from his father.

18. **Assertion (A) :** The colour of aqueous solution of copper sulphate turns colourless when a piece of lead is added to it. 1

Reason (R) : Lead is more reactive than copper, and hence displaces copper from its salt solution.

19. **Assertion (A) :** The strength of the magnetic field produced at the centre of a current carrying circular coil increases on increasing the number of turns in it. 1

Reason (R) : The current in each circular turn has the same direction and the magnetic field due to each turn then just adds up.

20. **Assertion (A) :** Left atrium receives oxygenated blood from pulmonary vein. 1

Reason (R) : Right atrium transfers deoxygenated blood to the right ventricle, which pumps it to the lungs for oxygenation.



खण्ड – ख

प्रश्न संख्या 21 से 26 अति लघु उत्तर प्रश्न हैं।

21. कोई पादप हॉर्मोन तने को प्रकाश की ओर मुड़ने में सहायता करता है। इस हॉर्मोन का नाम लिखिए तथा व्याख्या कीजिए कि चलन (गति) किस प्रकार सम्पादित होता है। 2

22. (a) (i) जिप्सम से बने किसी यौगिक 'X' में उचित मात्रा में पानी मिलाए जाने पर कठोर हो जाने का गुण है। 2

'X' को पहचान कर इसका रासायनिक सूत्र लिखिए।

(ii) बैकिंग सोडा और बैकिंग पाउडर के रासायनिक संघटनों में अन्तर लिखिए।

अथवा

(b) नीचे होने वाली अभिक्रियाओं के संतुलित रासायनिक समीकरण लिखिए : 2

(i) जब कॉपर सल्फेट के नीले क्रिस्टलों को गर्म किया जाता है, तथा

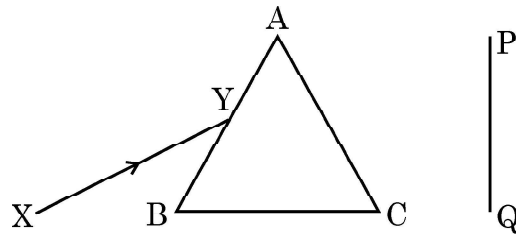
(ii) भोजन पकाते समय जब सोडियम हाइड्रोजन कार्बोनेट को गर्म किया जाता है।

23. मानव उत्सर्जन तंत्र के उस भाग का नाम लिखिए जिसमें वृक्काणु पाए जाते हैं। वृक्काणुओं की संरचना और उनका कार्य लिखिए। 2

24. मिश्रातु सोल्डर के घटकों का नाम लिखिए। सोल्डर का कौन सा गुणधर्म इसे विद्युत तारों की परस्पर वेल्डिंग के लिए उपयुक्त बनाता है ? 2

25. ओजोन परत की क्षति चिन्ता का विषय क्यों है ? इस क्षति को सीमित करने के लिए क्या कदम उठाए जा रहे हैं ? 2

26. (a) श्वेत प्रकाश का कोई पतला प्रकाश पुंज XY किसी काँच के प्रिज्म ABC से आरेख में दर्शाए अनुसार गुजर रहा है : 2



इसे अपनी उत्तर पुस्तिका पर खींचिए और पर्दे PQ पर दिखाई देने वाले निर्गत प्रकाश पुंज के पथ को दर्शाइए।

प्रेक्षण की जाने वाली परिघटना का नाम लिखिए और इसके कारण का उल्लेख कीजिए।

अथवा



SECTION – B

Q. No. 21 to 26 are very short answer questions.

21. A plant hormone helps in bending of stem towards light. Name the hormone and explain how is the movement achieved. 2

22. (a) (i) A compound 'X' which is prepared from gypsum has the property of hardening when mixed with proper quantity of water. 2

Identify 'X' and write its chemical formula.

- (ii) State the difference in chemical composition between baking soda and baking powder.

OR

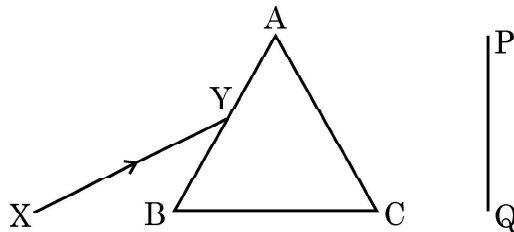
- (b) Write balanced chemical equation for the reaction that occurs when : 2
- (i) blue coloured copper sulphate crystals are heated and
- (ii) Sodium hydrogen carbonate is heated during cooking.

23. Name the part of the human excretory system where nephrons are found. Write the structure and function of nephrons. 2

24. Write the constituents of solder alloy. Which property of solder makes it suitable for welding electrical wires ? 2

25. Why is damage to the ozone layer a cause for concern ? What steps are being taken to limit this damage ? 2

26. (a) A narrow beam XY of white light is passing through a glass prism ABC as shown in the diagram : 2



Trace it on your answer sheet and show the path of the emergent beam as observed on the screen PQ.

Name the phenomenon observed and state its cause.

OR



- (b) यह प्रेक्षण किया गया है कि आयु में वृद्धि होने पर नेत्रों की निकट की तथा दूर की वस्तुओं को स्पष्ट देख सकने की क्षमता घट जाती है ।
- (i) उपरोक्त कथन के लिए कारण दीजिए ।
- (ii) इस प्रकार की स्थिति में नेत्रों में होने वाले संभावित दोष का नाम लिखिए ।
- (iii) इस प्रकार की दोषयुक्त नेत्र की दृष्टि के पुनः स्थापन के लिए उपयोग किए जाने वाले लेंस के प्रकार को दर्शाने के लिए नामांकित किरण आरेख खींचिए ।

2

खण्ड – ग

प्रश्न संख्या 27 से 33 लघु उत्तर प्रश्न हैं ।

27. किसी रासायनिक यौगिक X का उपयोग काँच, साबुन और कागज उद्योगों में किया जाता है । एथानॉइक अम्ल से अभिक्रिया करने पर यह यौगिक लवण, जल और कार्बन डाइऑक्साइड बनाता है ।
- (a) X को पहचानिए ।
- (b) इसे लवण-जल (ब्राइन) से किस प्रकार प्राप्त किया जाता है ? अभिक्रिया का रासायनिक समीकरण लिखिए ।
- (c) यौगिक X में उपस्थित क्रिस्टलन के जल के अणुओं की संख्या लिखिए ।
28. (a) नीचे दी गयी अभिक्रियाओं में अपचायी एजेंट पहचानिए :
- (i) $4\text{NH}_3 + 5\text{O}_2 \rightarrow 4\text{NO} + 6\text{H}_2\text{O}$
- (ii) $\text{H}_2\text{O} + \text{F}_2 \rightarrow \text{HF} + \text{HOF}$
- (iii) $\text{Fe}_2\text{O}_3 + 3\text{CO} \rightarrow 2\text{Fe} + 3\text{CO}_2$
- (iv) $2\text{H}_2 + \text{O}_2 \rightarrow 2\text{H}_2\text{O}$
- (b) उपचयन-अपचयन (रेडॉक्स) अभिक्रिया की परिभाषा ऑक्सीजन की वृद्धि अथवा ह्रास के पदों में दीजिए ।
29. कोई छात्र किसी दर्पण के सामने उसके ध्रुव से 15 cm की दूरी पर मोमबत्ती की ज्वाला को रख कर उस ज्वाला के प्रतिबिम्ब को दर्पण के सामने 60 cm दूरी पर स्थित पर्दे पर प्रक्षेपित करना चाहता है ।
- (a) प्रयुक्त दर्पण के प्रकार का नाम लिखिए ।
- (b) परिकल्पित कीजिए :
- (i) निर्मित प्रतिबिम्ब का आवर्धन
- (ii) प्रतिबिम्ब की बिम्ब से दूरी
- (c) प्रतिबिम्ब बनाने के लिए किरण आरेख खींचिए ।

3

3

3



- (b) It is observed that the power of an eye to see nearby objects as well as far off objects diminishes with age. 2
- (i) Give reason for the above statement.
- (ii) Name the defect that is likely to arise in the eyes in such a condition.
- (iii) Draw a labelled ray diagram to show the type of corrective lens used for restoring the vision of such an eye.

SECTION – C

Q. No. 27 to 33 are short answer questions.

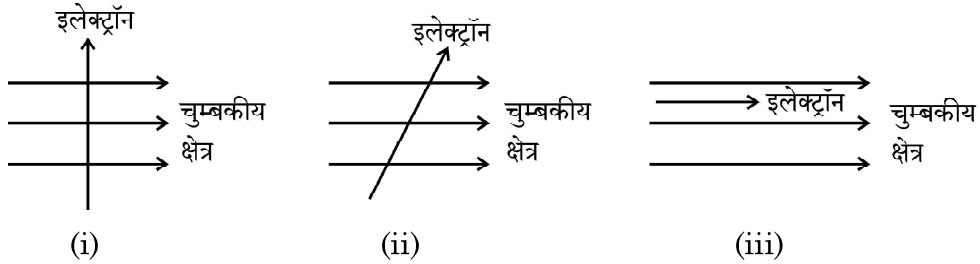
27. A chemical compound X is used in glass, soap and paper industries. On treatment with ethanoic acid, it forms salt, water and carbon dioxide. 3
- (a) Identify X.
- (b) How is this compound obtained from brine ? Write the equations involved.
- (c) State the number of molecules of water of crystallization present in compound X.
28. (a) Identify the reducing agent in the following reactions : 3
- (i) $4\text{NH}_3 + 5\text{O}_2 \rightarrow 4\text{NO} + 6\text{H}_2\text{O}$
- (ii) $\text{H}_2\text{O} + \text{F}_2 \rightarrow \text{HF} + \text{HOF}$
- (iii) $\text{Fe}_2\text{O}_3 + 3\text{CO} \rightarrow 2\text{Fe} + 3\text{CO}_2$
- (iv) $2\text{H}_2 + \text{O}_2 \rightarrow 2\text{H}_2\text{O}$
- (b) Define a redox reaction in terms of gain or loss of oxygen.
29. A student wants to project the image of a candle flame on a screen 60 cm in front of a mirror by keeping the candle at a distance of 15 cm from its pole. 3
- (a) Name the type of mirror used.
- (b) Also calculate :
- (i) Magnification of the image produced
- (ii) Distance between object and its image
- (c) Draw a ray diagram to show the image formation.



30. (a) (i) कोशिकीय श्वसन में ATP की भूमिका का उल्लेख कीजिए । 3
 (ii) पादपों में गैसों के पर्याप्त आदान-प्रदान को कौन सुनिश्चित करता है ?
 (iii) उन स्थितियों का उल्लेख कीजिए जिन पर पादपों में गैसों के विसरण की दिशा निर्भर करती है ।

अथवा

- (b) (i) पादपों और जन्तुओं में आन्तरिक ऊर्जा किस रूप में संचित होती है ? 3
 (ii) मरुस्थली पादपों में यदि दिन के समय उनके रंध्र बन्द रहते हैं तो प्रकाश-संश्लेषण किस प्रकार होता है ?
31. (a) (i) चुम्बकीय क्षेत्र में स्थित किसी धारावाही चालक पर लगने वाले बल की दिशा ज्ञात करने वाले नियम को लिखिए । 3
 (ii) नीचे तीन आरेख दिए गए हैं जिनमें चुम्बकीय क्षेत्र में किसी इलेक्ट्रॉन को प्रवेश करते दिखाया गया है । इनमें से वह प्रकरण पहचानिए जिसमें इलेक्ट्रॉन पर लगने वाला बल क्रमशः (1) अधिकतम और (2) निम्नतम होगा । अपने उत्तरों के लिए कारण दीजिए ।



अथवा

- (b) (i) नीचे दिए गए प्रकरणों में चुम्बकीय क्षेत्र रेखाओं का पैटर्न खींचिए : 3
 (1) धारावाही परिनालिका
 (2) छड़ चुम्बक
 (ii) इन दोनों चुम्बकीय क्षेत्रों के बीच दो विभेदनकारी लक्षणों की सूची बनाइए ।
32. (a) (i) किसी घरेलू बगीचे (किचन गार्डन) को कृत्रिम पारितंत्र क्यों कहा जाता है जबकि वन (जंगल) को प्राकृतिक पारितंत्र माना जाता है ? 3
 (ii) घर पर किसी कृत्रिम (मानव निर्मित) पारितंत्र की अभिकल्पना करते समय उन किन्हीं दो बातों का कारण सहित उल्लेख कीजिए जो उसे स्वनिर्वाह पारितंत्र में परिवर्तित कर सकते हैं ।

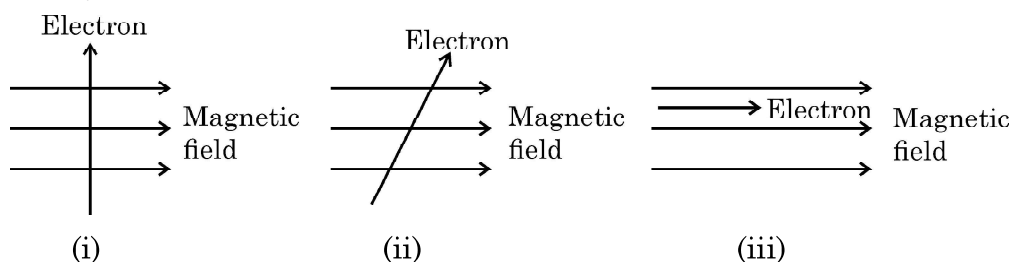
अथवा



30. (a) (i) State the role of ATP in cellular respiration. 3
(ii) What ensures sufficient exchange of gases in plants ?
(iii) State the conditions on which the direction of diffusion of gases in plant depend upon.

OR

- (b) (i) What is the internal energy reserve in plants and animals ? 3
(ii) How desert plants perform photosynthesis if their stomata remain closed during the day ?
31. (a) (i) State the rule used to find the force acting on a current carrying conductor placed in a magnetic field. 3
(ii) Given below are three diagrams showing entry of an electron in a magnetic field. Identify the case in which the force will be (1) maximum and (2) minimum respectively. Give reason for your answer.



OR

- (b) (i) Draw the pattern of magnetic field lines of 3
(1) a current carrying solenoid
(2) a bar magnet
(ii) List two distinguishing features between the two fields.
32. (a) (i) Why does a kitchen garden called an artificial ecosystem while a forest is considered to be a natural ecosystem ? 3
(ii) While designing an artificial ecosystem at home, write any two things to be kept in mind to convert it into a self-sustaining system. Give reason to justify your answer.

OR



- (b) (i) निम्नलिखित को सम्मिलित करते हुए चार पोषी स्तरों की आहार शृंखला बनाइए : 3
बाज़, सर्प, पौधे, चूहे
- (ii) उत्पादकों द्वारा दूसरे पोषी स्तर के जीवों के लिए 20,000 J ऊर्जा स्थानान्तरित की गयी है। ऊर्जा की उस मात्रा का परिकलन कीजिए जिसे तीसरे पोषी स्तर के जीवों द्वारा चौथे पोषी स्तर के जीवों के लिए स्थानान्तरित किया जाएगा।
33. कोई व्यक्ति 5 m से अधिक दूरी पर स्थित बिम्बों को स्पष्ट नहीं देख पाता है। उसके दृष्टि दोष का नाम लिखिए। इस दोष को दशानि के लिए किरण आरेख खींचिए। इस दोष के संभावित दो कारणों की सूची बनाइए। इस दोष के संशोधन के लिए उपयोग किए जाने वाले लेंस का नाम लिखिए। 3

खण्ड – घ

प्रश्न संख्या 34 से 36 दीर्घ उत्तर प्रश्न हैं।

34. (a) मानव नर जनन तंत्र के नीचे दिए गए भागों के कार्य लिखिए : 5
(i) वृषण
(ii) वृषण कोश
(iii) शुक्रवाहिनी
(iv) शुक्राशय
- (b) प्लैसेंटा किसे कहते हैं ? मानव मादा में इसके कार्य का उल्लेख कीजिए।
35. (a) किसी विद्युत इस्तरी में अधिकतम तापन दर के लिए 880 W की दर से ऊर्जा उपभुक्त होती है तथा 330 W की दर से उस समय उपभुक्त होती है जब तापन की दर निम्नतम है। यदि विद्युत स्रोत की वोल्टता 220 V है, तो दोनों प्रकरणों में विद्युत धारा तथा प्रतिरोध परिकलित कीजिए। 5
- (b) विद्युत धारा का तापन प्रभाव किसे कहते हैं ?
- (c) जब किसी प्रतिरोधक से कोई धारा कुछ समय के लिए प्रवाहित होती है, तो उत्पन्न ऊष्मा के लिए व्यंजक ज्ञात कीजिए।
36. (a) कोई संतृप्त कार्बन यौगिक 'A' एल्कोहॉलों की समजातीय श्रेणी का यौगिक है। यौगिक 'A' को सांद्र सल्फ्यूरिक अम्ल के साथ 443 K पर गर्म किया जाता है तो आण्विक द्रव्यमान 28 u का असंतृप्त यौगिक 'B' बनता है। यौगिक 'B' निकेल की उपस्थिति में हाइड्रोजन के एक मोल के संकलन द्वारा संतृप्त हाइड्रोकार्बन 'C' में परिवर्तित हो जाता है। 5



- (b) (i) Construct a food chain of four trophic levels comprising the following : 3
Hawk, snake, plants, rat.
- (ii) 20,000 J of energy was transferred by the producers to the organism of second trophic level. Calculate the amount of energy that will be transferred by organisms of the third trophic level to the organisms of the fourth trophic level.
33. A person cannot see distinctly the object placed beyond 5 m from his eyes. Name the defect of vision the person is suffering from. Draw a ray diagram to illustrate this defect. List its two possible causes. Name the lens used for the correction of this defect. 3

SECTION – D

Q. No. 34 to 36 are long answer questions.

34. (a) Mention the role of the following organs of human male reproductive system : 5
(i) Testis
(ii) Scrotum
(iii) Vas-deferens
(iv) Seminal vesicle
(b) What is Placenta ? State its function in a human female.
35. (a) An electric iron consumes energy at a rate of 880 W when heating is at the maximum rate and 330 W when the heating is at the minimum. If the source voltage is 220 V, calculate the current and resistance in each case. 5
(b) What is heating effect of electric current ?
(c) Find an expression for the amount of heat produced when a current passes through a resistor for some time.
36. (a) A saturated organic compound 'A' belongs to the homologous series of alcohols. 5
On heating 'A' with concentrated sulphuric acid at 443 K, it forms an unsaturated compound 'B' with molecular mass 28 u.
The compound 'B' on addition of one mole of hydrogen in the presence of Nickel, changes to a saturated hydrocarbon 'C'.



- (i) A, B और C की पहचान कीजिए ।
- (ii) A से B में परिवर्तन को दर्शाने के लिए रासायनिक समीकरण लिखिए ।
- (iii) क्या होता है जब यौगिक C का दहन किया जाता है ?
- (iv) हाइड्रोजनीकरण अभिक्रिया का एक औद्योगिक अनुप्रयोग लिखिए ।
- (v) यौगिक A की सोडियम से अभिक्रिया द्वारा बनने वाले उत्पाद का नाम लिखिए ।

अथवा

- (b) (i) आरेख की सहायता से तैलीय धूल पर साबुन लगाने पर मिसेल बनना दर्शाइए । 5
- (ii) दो परखनलियाँ X और Y लेकर प्रत्येक में 10 mL कठोर जल भरिए । परखनली 'X' में साबुन के घोल की कुछ बूँदें मिलाइए तथा परखनली 'Y' में अपमार्जक (डिटर्जेंट) के घोल की कुछ बूँदें मिलाइए । दोनों परखनलियों को बराबर समय तक हिलाइए ।
 - (1) किस परखनली में अधिक झाग बनेंगे और क्यों ?
 - (2) किस परखनली में दही जैसा ठोस पदार्थ बनता है और क्यों ?

खण्ड – ड

प्रश्न संख्या 37 से 39 प्रकरण आधारित / सामग्री आधारित प्रश्न हैं, जिनमें 2 से 3 लघु उप-भाग हैं । इनमें से एक उप-भाग में आन्तरिक चयन प्रदान किया गया है ।

37. लक्षणों की वंशागति की खोज करने के लिए मेण्डल ने मटर के ऐसे पौधों के बीच संकरण कराया जिनमें एक अथवा दो विपर्यासी लक्षणों के युगल थे । जब उन्होंने गोल और पीले बीजों वाले मटर के पौधों का झुरीदार और हरे बीजों वाले मटर के पौधों के साथ संकरण कराया तो प्रेक्षण करने पर उन्होंने यह पाया कि F_1 संतति के पौधों में झुरीदार व हरे बीजों वाले पौधे नहीं थे । जब F_1 संतति के पौधों का स्व-परागण कराया गया तो F_2 संतति के पौधों में बीजों की आकृति और रंग के विभिन्न संयोजन भी प्राप्त हुए ।

- (a) उपरोक्त विपर्यासी लक्षणों के अतिरिक्त मेंडल द्वारा अपने प्रयोगों में उपयोग किए मटर पौधे के किन्हीं अन्य दो विपर्यासी लक्षणों को लिखिए । 1
- (b) प्रभावी और अप्रभावी लक्षणों के बीच विभेदन कीजिए । 1
- (c) उपरोक्त प्रकरण में F_2 संतति के बीजों में पाए गए विभिन्न संयोजनों का अनुपात लिखिए । इस परिणाम की विवेचना कीजिए । 2

अथवा



- (i) Identify A, B and C.
- (ii) Write the chemical equations showing the conversion of A into B.
- (iii) What happens when compound C undergoes combustion ?
- (iv) State one industrial application of hydrogenation reaction.
- (v) Name the products formed when compound A reacts with sodium.

OR

- (b) (i) With the help of diagram, show the formation of micelles, when soap is applied on oily dirt. 5
- (ii) Take two test tubes X and Y with 10 mL of hard water in each. In test tube 'X', add few drops of soap solution and in test tube 'Y' add a few drops of detergent solution. Shake both the test tubes for the same period.
 - (1) In which test tube the formation of foam will be more ? Why ?
 - (2) In which test tube is a curdy solid formed ? Why ?

SECTION – E

Q. No. 37 to 39 are case based / data based questions with 2 to 3 short sub-parts. Internal choice is provided in one of these sub-parts.

37. In order to trace the inheritance of traits Mendel crossed pea plants having one contrasting character or a pair of contrasting characters. When he crossed pea plants having round and yellow seeds with pea plants having wrinkled and green seeds, he observed that no plants with wrinkled and green seeds were obtained in the F_1 generation. When the F_1 generation pea plants were cross-bred by self-pollination, the F_2 generation had seeds with different combinations of shape and colour also.
- (a) Write any two pairs of contrasting characteristics of pea plant used by Mendel other than those mentioned above. 1
 - (b) Differentiate between dominant and recessive traits. 1
 - (c) State the ratio of the combinations observed in the seeds of F_2 generation (in the above case). What do you interpret from this result ? 2

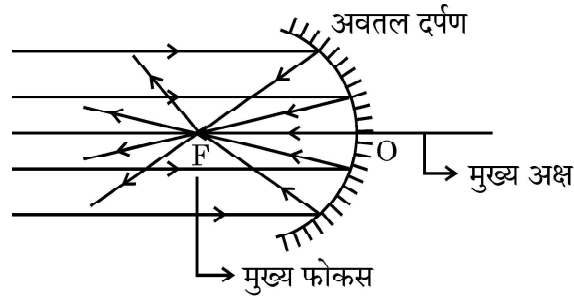
OR



- (c) नीचे शुद्ध बैंगनी पुष्पों वाले मटर के पौधों (V) और शुद्ध श्वेत पुष्पों वाले मटर के पौधों (v) के बीच संकरण दिया गया है। प्रवाह आरेख द्वारा F_1 और F_2 में प्राप्त संततियों के प्रकार की व्याख्या कीजिए : 2

शुद्ध बैंगनी पुष्पों वाले पौधे × शुद्ध श्वेत पुष्पों वाले पौधे
(VV) (vv)

38. किसी अवतल दर्पण को अपने हाथ में पकड़िए तथा इसके परावर्तक पृष्ठ को सूर्य की ओर कीजिए। दर्पण द्वारा परावर्तित प्रकाश को दर्पण के पास रखे सफेद कार्डबोर्ड पर डालिए। कार्डबोर्ड को धीरे-धीरे आगे-पीछे कीजिए जब तक कि आपको कार्डबोर्ड पर प्रकाश का एक चमकदार तीक्ष्ण बिन्दु प्राप्त न हो जाए। यह तीक्ष्ण बिन्दु सूर्य का कार्डबोर्ड पर बना प्रतिबिम्ब है, जिसे अवतल दर्पण का 'मुख्य फोकस' भी कहते हैं।



- (a) अवतल दर्पण के दो अनुप्रयोगों की सूची बनाइए। 1
- (b) यदि दर्पण और मुख्य फोकस के बीच की दूरी 15 cm है, तो दर्पण की वक्रता त्रिज्या ज्ञात कीजिए। 1
- (c) किसी अवतल दर्पण के ध्रुव और फोकस के बीच स्थित किसी बिम्ब के दर्पण द्वारा बने प्रतिबिम्ब के प्रकार को दर्शाने के लिए किरण आरेख खींचिए। 2

अथवा

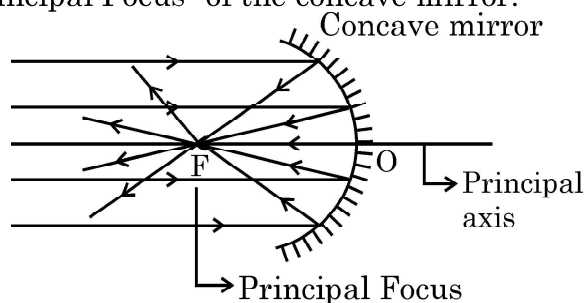
- (c) 10 cm साइज का कोई बिम्ब किसी अवतल दर्पण के सामने 100 cm दूरी पर स्थित है। यदि बिम्ब का प्रतिबिम्ब उसी स्थान पर बनता है जहाँ बिम्ब स्थित है, तो 2
- (i) दर्पण की फोकस दूरी ज्ञात कीजिए, तथा
- (ii) कार्तीय चिह्न परिपाटी के अनुसार बनने वाले प्रतिबिम्ब का आवर्धन ज्ञात कीजिए।



- (c) Given below is a cross between a pure violet flowered pea plant (V) and a pure white flowered pea plant (v). Diagrammatically explain what type of progeny is obtained in F_1 generation and F_2 generation :
 Pure violet flowered plant \times Pure white flowered plant.
 (V V) (v v)

2

38. Hold a concave mirror in your hand and direct its reflecting surface towards the sun. Direct the light reflected by the mirror on to a white card-board held close to the mirror. Move the card-board back and forth gradually until you find a bright, sharp spot of light on the board. This spot of light is the image of the sun on the sheet of paper; which is also termed as "Principal Focus" of the concave mirror.



- (a) List two applications of concave mirror. 1
 (b) If the distance between the mirror and the principal focus is 15 cm, find the radius of curvature of the mirror. 1
 (c) Draw a ray diagram to show the type of image formed when an object is placed between pole and focus of a concave mirror. 2

OR

- (c) An object 10 cm in size is placed at 100 cm in front of a concave mirror. If its image is formed at the same point where the object is located, find : 2
 (i) focal length of the mirror, and
 (ii) magnification of the image formed with sign as per Cartesian sign convention.



39. लगभग सभी धातुएँ ऑक्सीजन से संयोग करके धातु के ऑक्साइड बनाती हैं। धातुओं के ऑक्साइडों की प्रकृति सामान्यतः क्षारकीय होती है, परन्तु कुछ धातुओं के ऑक्साइड क्षारकीय के साथ-साथ अम्लीय व्यवहार भी दर्शाते हैं। विभिन्न धातुओं की ऑक्सीजन के साथ अभिक्रियाशीलता भिन्न होती है। कुछ धातुएँ ऑक्सीजन के साथ बहुत तेज़ी से अभिक्रिया करती हैं जबकि कुछ कोई अभिक्रिया नहीं करती हैं।

- (a) क्या होता है जब कॉपर को वायु में गर्म किया जाता है ? (अभिक्रिया का रासायनिक समीकरण दीजिए।) 1
- (b) कुछ धातुओं के ऑक्साइडों को उभयधर्मी की श्रेणी में क्यों रखा जाता है ? एक उदाहरण दीजिए। 1
- (c) नीचे दिए गए समीकरणों को पूरा कीजिए : 2
- (i) $\text{Na}_2\text{O}_{(s)} + \text{H}_2\text{O}_{(l)} \rightarrow$
- (ii) $\text{Al}_2\text{O}_3 + 2 \text{NaOH} \rightarrow$

अथवा

- (c) सल्फर का ऑक्सीजन में दहन करने पर कोई रंगहीन गैस उत्पन्न होती है। 2
- (i) अभिक्रिया का रासायनिक समीकरण लिखिए।
- (ii) बनने वाली गैस का नाम लिखिए।
- (iii) इस गैस की प्रकृति लिखिए।
- (iv) इस गैस की शुष्क लिटमस पत्र पर क्या क्रिया होगी ?



39. Almost all metals combine with oxygen to form metal oxides. Metal oxides are generally basic in nature. But some metal oxides show both basic as well as acidic behaviour. Different metals show different reactivities towards oxygen. Some react vigorously while some do not react at all.

- (a) What happens when copper is heated in air ? (Give the equation of the reaction involved). 1
- (b) Why are some metal oxides categorized as amphoteric ? Give one example. 1
- (c) Complete the following equations : 2
- (i) $\text{Na}_2\text{O}_{(s)} + \text{H}_2\text{O}_{(l)} \rightarrow$
- (ii) $\text{Al}_2\text{O}_3 + 2 \text{NaOH} \rightarrow$

OR

- (c) On burning Sulphur in oxygen a colourless gas is produced. 2
- (i) Write chemical equation for the reaction.
- (ii) Name the gas formed.
- (iii) State the nature of the gas.
- (iv) What will be the action of this on a dry litmus paper ?
- _____



Strictly Confidential: (For Internal and Restricted use only)
Secondary School Examination, 2023
Marking Scheme – Science (SUBJECT CODE -086)
(PAPER CODE –31/1/3)

General Instructions: -

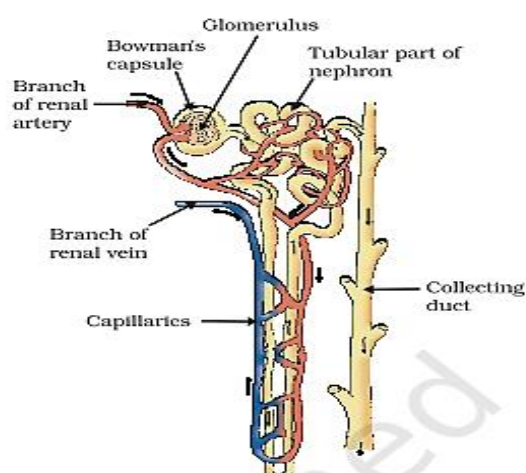
1. You are aware that evaluation is the most important process in the actual and correct assessment of the candidates. A small mistake in evaluation may lead to serious problems which may affect the future of the candidates, education system and teaching profession. To avoid mistakes, it is requested that before starting evaluation, you must read and understand the spot evaluation guidelines carefully.
2. **“Evaluation policy is a confidential policy as it is related to the confidentiality of the examinations conducted, Evaluation done and several other aspects. Its’ leakage to public in any manner could lead to derailment of the examination system and affect the life and future of millions of candidates. Sharing this policy/document to anyone, publishing in any magazine and printing in News Paper/Website etc may invite action under various rules of the Board and IPC.”**
3. Evaluation is to be done as per instructions provided in the Marking Scheme. It should not be done according to one’s own interpretation or any other consideration. Marking Scheme should be strictly adhered to and religiously followed. **However, while evaluating, answers which are based on latest information or knowledge and/or are innovative, they may be assessed for their correctness otherwise and due marks be awarded to them. In class-X, while evaluating two competency-based questions, please try to understand given answer and even if reply is not from marking scheme but correct competency is enumerated by the candidate, due marks should be awarded.**
4. The Marking scheme carries only suggested value points for the answers. These are in the nature of Guidelines only and do not constitute the complete answer. The students can have their own expression and if the expression is correct, the due marks should be awarded accordingly.
5. The Head-Examiner must go through the first five answer books evaluated by each evaluator on the first day, to ensure that evaluation has been carried out as per the instructions given in the Marking Scheme. If there is any variation, the same should be zero after deliberation and discussion. The remaining answer books meant for evaluation shall be given only after ensuring that there is no significant variation in the marking of individual evaluators.
6. Evaluators will mark(\checkmark) wherever answer is correct. For wrong answer CROSS ‘X’ be marked. Evaluators will not put right (\checkmark)while evaluating which gives an impression that answer is correct and no marks are awarded. **This is most common mistake which evaluators are committing.**
7. If a question has parts, please award marks on the right-hand side for each part. Marks awarded for different parts of the question should then be totaled up and written in the left-hand margin and encircled. This may be followed strictly.
8. If a question does not have any parts, marks must be awarded in the left-hand margin and encircled. This may also be followed strictly.
9. If a student has attempted an extra question, answer of the question deserving more marks should be retained and the other answer scored out with a note **“Extra Question”**.

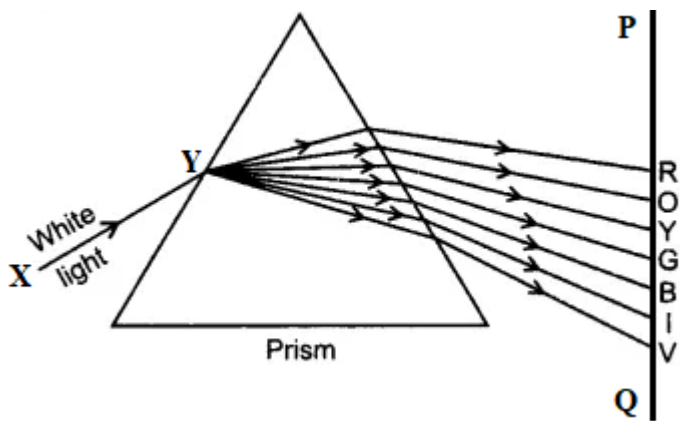
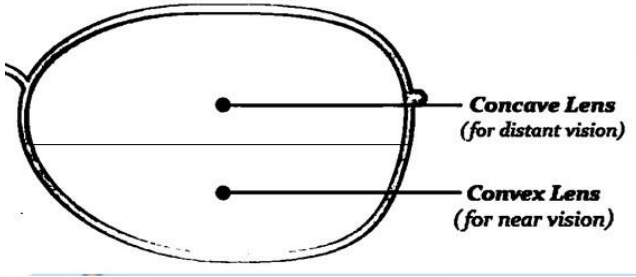
10. No marks to be deducted for the cumulative effect of an error. It should be penalized only once.
11. A full scale of marks **80** (example 0 to 80/70/60/50/40/30 marks as given in Question Paper) has to be used. Please do not hesitate to award full marks if the answer deserves it.
12. Every examiner has to necessarily do evaluation work for full working hours i.e., 8 hours every day and evaluate 20 answer books per day in main subjects and 25 answer books per day in other subjects (Details are given in Spot Guidelines). This is in view of the reduced syllabus and number of questions in question paper.
13. Ensure that you do not make the following common types of errors committed by the Examiner in the past:-
 - Leaving answer or part thereof unassessed in an answer book.
 - Giving more marks for an answer than assigned to it.
 - Wrong totaling of marks awarded on a reply.
 - Wrong transfer of marks from the inside pages of the answer book to the title page.
 - Wrong question wise totaling on the title page.
 - Wrong totaling of marks of the two columns on the title page.
 - Wrong grand total.
 - Marks in words and figures not tallying / not same.
 - Wrong transfer of marks from the answer book to online award list.
 - Answers marked as correct, but marks not awarded. (Ensure that the right tick mark is correctly and clearly indicated. It should merely be a line. Same is with the X for incorrect answer.)
 - Half or a part of answer marked correct and the rest as wrong, but no marks awarded.
14. While evaluating the answer books if the answer is found to be totally incorrect, it should be marked as cross (X) and awarded zero (0) Marks.
15. Any unassessed portion, non-carrying over of marks to the title page, or totaling error detected by the candidate shall damage the prestige of all the personnel engaged in the evaluation work as also of the Board. Hence, in order to uphold the prestige of all concerned, it is again reiterated that the instructions be followed meticulously and judiciously.
16. The Examiners should acquaint themselves with the guidelines given in the “**Guidelines for spot Evaluation**” before starting the actual evaluation. Examiners should acquaint themselves with the guidelines given in the Guidelines for spot Evaluation before starting the actual evaluation.
17. Every Examiner shall also ensure that all the answers are evaluated, marks carried over to the title page, correctly totaled and written in figures and words.
18. The candidates are entitled to obtain photocopy of the Answer Book on request on payment of the prescribed processing fee. All Examiners/Additional Head Examiners/Head Examiners are once again reminded that they must ensure that evaluation is carried out strictly as per value points for each answer as given in the Marking Scheme.

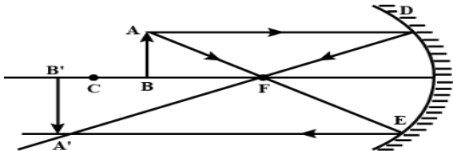
MARKING SCHEME
 Secondary School Examination 2023
SCIENCE (Subject Code-086)
[Paper Code:31/1/3]

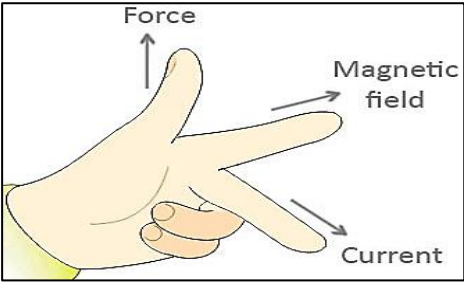
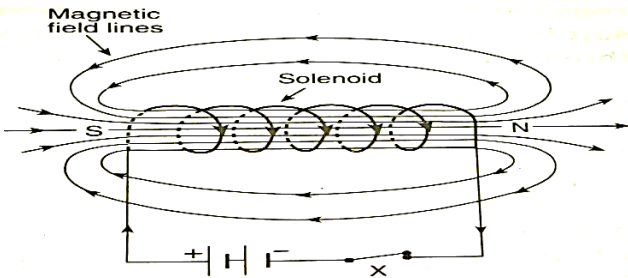
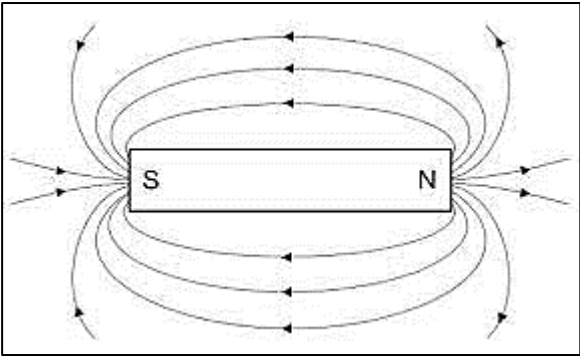
Maximum Marks: 80

Q. No.	EXPECTED ANSWER / VALUE POINTS	Marks	Total Marks
	SECTION—A	1	1
1.	(a)	1	1
2.	(b)	1	1
3.	(b)	1	1
4.	(c)	1	1
5.	(c)	1	1
6.	(c)	1	1
7.	(a)	1	1
8.	(d)	1	1
9.	(d)	1	1
10.	(c)	1	1
11.	(d)	1	1
12.	(a)	1	1
13.	(a)	1	1
14.	(d)	1	1
15.	(c)	1	1
16.	(c)	1	1
17.	(c)	1	1
18.	(a)	1	1
19.	(a)	1	1

20.	(b)	1	1
	SECTION B		
21.	<ul style="list-style-type: none"> Auxin When light is coming from one side of the plant, auxin diffuses towards the shady side of the shoot. This stimulates the cells of the shoot to grow longer and bend towards light. 	1 1	2
22.	<p>(a) (i) X: Plaster of Paris/Calcium sulphate hemihydrate.</p> <p>• $\text{CaSO}_4 \cdot \frac{1}{2} \text{H}_2\text{O}$</p> <p>(ii) • Baking Soda – NaHCO_3 /Sodium hydrogen carbonate/ Sodium bicarbonate</p> <p>• Baking Powder – A mixture of NaHCO_3 /Baking soda + Tartaric acid/any mild edible acid</p> <p>OR</p> <p>(b) (i) $\text{CuSO}_4 \cdot 5\text{H}_2\text{O} \xrightarrow{\text{heat}} \text{CuSO}_4 + 5\text{H}_2\text{O}$</p> <p>(ii) $2\text{NaHCO}_3 \xrightarrow{\text{heat}} \text{Na}_2\text{CO}_3 + \text{H}_2\text{O} + \text{CO}_2$</p>	$\frac{1}{2}$ $\frac{1}{2}$ $\frac{1}{2}$ 1 1	2
23.	<ul style="list-style-type: none"> Kidneys <ul style="list-style-type: none"> Structure: A cluster of thin-walled capillaries (glomerulus) associated with cup-shaped end of a tube called Bowman's capsule. This further extends into a tubular part which ends in collective ducts. /  <ul style="list-style-type: none"> Function: 	$\frac{1}{2}$ 1 $\frac{1}{2}$	

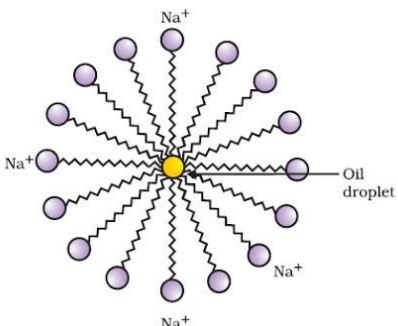
	Filtration of nitrogenous waste from blood to form urine. / Reabsorption of useful materials from the filtrate. / Osmoregulation (Any one function)		2
24.	<ul style="list-style-type: none"> • Lead and Tin / Pb+Sn • Low melting point 	1 1	2
25.	<ul style="list-style-type: none"> • UV rays reach the earth and cause ill effects like skin cancer in human beings. • (a) Minimize the use of CFC's (b) Forging on agreement to freeze CFC production at 1986 levels. 	1 $\frac{1}{2}$ $\frac{1}{2}$	2
26.	<p>(a)</p>  <ul style="list-style-type: none"> • Dispersion of white light • Cause: Different colours of light bend through different angles w.r.t. the incident ray. / Different colours have different wavelengths. <p style="text-align: center;">OR</p> <p>(b) (i) It is due to gradual weakening of the ciliary muscles and diminishing flexibility of the eye lens.</p> <p>(ii) Presbyopia/ Presbyopia + Myopia</p> <p>(iii) Bifocal /Concave + Convex lens/ Diagram</p> 	1 $\frac{1}{2}$ $\frac{1}{2}$ $\frac{1}{2}$, $\frac{1}{2}$ $\frac{1}{2}$ $\frac{1}{2}$	2

	SECTION C		
27.	(a) $\text{Na}_2\text{CO}_3 \cdot 10\text{H}_2\text{O}$ / washing soda / sodium carbonate decahydrate (b) $\text{NaCl} + \text{H}_2\text{O} + \text{CO}_2 + \text{NH}_3 \rightarrow \text{NH}_4\text{Cl} + \text{NaHCO}_3$ $2\text{NaHCO}_3 \xrightarrow{\text{heat}} \text{Na}_2\text{CO}_3 + \text{H}_2\text{O} + \text{CO}_2$ $\text{Na}_2\text{CO}_3 + 10\text{H}_2\text{O} \rightarrow \text{Na}_2\text{CO}_3 \cdot 10\text{H}_2\text{O}$ (c) 10	1 $\frac{1}{2}$ $\frac{1}{2}$ $\frac{1}{2}$ $\frac{1}{2}$	3
28.	(a) (i) NH_3 (ii) H_2O (iii) CO (iv) H_2 (Award full mark if part (ii) of (a) is attempted) (b) A reaction in which the gain or loss of oxygen takes place simultaneously is called a redox reaction.	$\frac{1}{2}$ $\frac{1}{2}$ $\frac{1}{2}$ $\frac{1}{2}$ 1	3
29.	(a) Concave Mirror / Converging Mirror (b) (i). $m = \frac{-v}{u} = - \frac{(-60)}{(-15)} = -4$ (ii). 45 cm from the object (c)  (Note: $\frac{1}{2}$ mark to be deducted for not drawing the arrows.)	$\frac{1}{2}$ $\frac{1}{2} + \frac{1}{2}$ $\frac{1}{2}$ 1	3
30.	(a) (i) Energy currency for cellular processes / ATP breaks down to give a fixed amount of energy which can drive the endothermic reactions taking place in the cell. (ii) Stomata and surface of leaves, stems and roots. (iii) Environmental conditions Requirements of the plant. OR (b) (i) Plants -Starch Animals- Glycogen (ii) Desert plants take up carbon dioxide at night and prepare an intermediate compound which is acted upon by the energy absorbed by the chlorophyll during the day.	1 1 $\frac{1}{2}$ $\frac{1}{2}$ 1 1 1	3
31.	(a) (i) Flemings left-hand rule:		

	<p>Stretch the forefinger, the central finger and the thumb of your left hand in mutually perpendicular directions. If the forefinger shows the direction of the magnetic field and the central finger that of the current, then the thumb will point towards the direction of motion of the conductor or direction of force /</p>  <p>(ii) (1) Force on electron is maximum in Fig (i) because the direction of motion of electron/current is at right angle/perpendicular to that of magnetic field.</p> <p>(2) Force on electron is minimum in Fig (iii) because the electron is moving along / parallel to the direction of magnetic field</p> <p style="text-align: center;">OR</p> <p>(b) (i) (1)</p>  <p style="text-align: center;">Magnetic field lines of a current carrying solenoid</p> <p>(2)</p>  <p style="text-align: center;">Magnetic field lines of a bar magnet</p>	<p>1</p> <p>$\frac{1}{2}, \frac{1}{2}$</p> <p>$\frac{1}{2}, \frac{1}{2}$</p> <p>1</p> <p>1</p>	
--	---	--	--

	(ii)										
	<table><tr><th>Magnetic field of a solenoid</th><th>Magnetic field of a bar magnet</th></tr><tr><td>1. The strength of the magnetic field can be changed by changing the current.</td><td>1. The strength of the magnetic field for a bar magnet cannot be changed.</td></tr><tr><td>2. The direction of magnetic field can be reversed by reversing the direction of current.</td><td>2. The direction of magnetic field for a bar magnet cannot be changed.</td></tr><tr><td>3. It is a temporary magnetic field.</td><td>3 It is a permanent magnetic field.</td></tr></table>	Magnetic field of a solenoid	Magnetic field of a bar magnet	1. The strength of the magnetic field can be changed by changing the current.	1. The strength of the magnetic field for a bar magnet cannot be changed.	2. The direction of magnetic field can be reversed by reversing the direction of current.	2. The direction of magnetic field for a bar magnet cannot be changed.	3. It is a temporary magnetic field.	3 It is a permanent magnetic field.	$\frac{1}{2}+\frac{1}{2}$	3
Magnetic field of a solenoid	Magnetic field of a bar magnet										
1. The strength of the magnetic field can be changed by changing the current.	1. The strength of the magnetic field for a bar magnet cannot be changed.										
2. The direction of magnetic field can be reversed by reversing the direction of current.	2. The direction of magnetic field for a bar magnet cannot be changed.										
3. It is a temporary magnetic field.	3 It is a permanent magnetic field.										
	(Any two)										
32.	<p>(a) (i) Kitchen Garden → A man made ecosystem / non-sustainable Forest → Ecosystem maintained by nature / self-sustainable</p> <p>(ii)In a jar containing water we can provide oxygen through a pump and add a few aquatic plants and animals to make it a self-sustaining system.</p> <p>Justification –</p> <ul style="list-style-type: none">• Oxygen is replenished continuously.• Aquatic plants serve as food. <p>(or any other example)</p> <p>OR</p> <p>(b) (i) Plants → Rats → Snakes → Hawks</p> <p>(ii) Energy available at second trophic level = 20,000 J</p> <p>Energy transferred from second to third trophic level = 2000 J</p> <p>Energy transferred from third to fourth trophic level = 200 J</p>	1 1 1									

	SECTION D		
34	<p>(a)</p> <p>(i) Testis – To produce male gametes/sperm/Male hormone/Testosterone (Any one).</p> <p>(ii) Scrotum – To provide optimal temperature to testis for the formation of sperm.</p> <p>(iii) Vas deferens – Transport the sperm to urethra.</p> <p>(iv) Seminal vesicles – To secrete the fluid which provides nutrition and medium for the transport of sperms.</p> <p>(b) <u>Placenta</u> – A disc shaped specialized tissue embedded in the uterine wall which connects the mother to the embryo. It contains villi on the embryo's side and blood spaces on the mother's side.</p> <p>Function: – Helps in exchange of nutrients, gases and waste materials between the mother and embryo/foetus.</p>	<p>½</p> <p>½</p> <p>½</p> <p>½</p> <p>2</p> <p>1</p>	5
35.	<p>(a) When heating is at maximum rate.</p> <p>Power, $P = 880 \text{ W}$</p> <p>Voltage, $V = 220 \text{ V}$</p> <p>Current, $I = \frac{P}{V} = \frac{880}{220} = 4\text{A}$</p> <p>Resistance, $R = \frac{V}{I} = \frac{220}{4} = 55 \Omega$</p> <p>When heating is at minimum rate</p> <p>Power, $P = 330\text{W}$</p> <p>Voltage, $V = 220 \text{ V}$</p> <p>Current, $I = \frac{P}{V} = \frac{330}{220} = \frac{3}{2} = 1.5\text{A}$</p> <p>Resistance, $R = \frac{V}{I} = \frac{220}{1.5} = 146.6 \Omega$</p> <p>(b) When electric current is passed through a resistor, electrical energy is dissipated and appears as heat energy.</p> <p>(c) $H = I^2Rt$ / $H=VIt$</p>	<p>½, ½</p> <p>½, ½</p> <p>½</p> <p>½</p> <p>1</p> <p>1</p>	5
36.	<p>(a) (i) A: $\text{CH}_3\text{CH}_2\text{OH}$ / Ethanol / Ethyl alcohol</p> <p>B: $\text{CH}_2 = \text{CH}_2$ / Ethene</p> <p>C: $\text{CH}_3 - \text{CH}_3$ / Ethane</p> <p>(ii)</p> <div style="border: 1px solid black; padding: 5px; width: fit-content; margin: 10px auto;"> $\underset{\text{A}}{\text{CH}_3\text{CH}_2\text{OH}} \xrightarrow[443 \text{ K}]{\text{conc. H}_2\text{SO}_4} \underset{\text{B}}{\text{CH}_2=\text{CH}_2} + \text{H}_2\text{O}$ </div>	<p>½</p> <p>½</p> <p>½</p> <p>1</p>	

	<p>(iii) Carbon dioxide and water are produced and a large amount of heat is released /</p> $\text{C}_2\text{H}_6 + \text{O}_2 \rightarrow 2\text{CO}_2 + 3\text{H}_2\text{O} + \text{Heat}$ <p>(Award full marks even if equation is not balanced.)</p> <p>(iv) Conversion of vegetable oil into fats.</p> <p>(v) Sodium ethoxide and hydrogen</p> <p style="text-align: center;">OR</p> <p>(b) (i)</p>  <p>(ii) (1) • Test tube 'Y'. • Detergents are effective in hard water.</p> <p>(2) • Test tube 'X' • Reaction between soap and calcium and magnesium salts of hard water form insoluble scum / due to formation of scum / insoluble ppt.</p>	<p>1</p> <p>$\frac{1}{2}$</p> <p>1</p> <p>2</p> <p>$\frac{1}{2}, 1$</p> <p>$\frac{1}{2}, 1$</p>	<p>5</p>
37.	<p>(a) Tall – Dwarf (Height of plant) White – Purple (Colour of flower) (or any other)</p> <p>(b) Dominant Trait – are expressed even if one copy of dominant trait exists. Recessive Trait – Whose expression is suppressed by a dominant gene/ Expressed when two copies of recessive traits are present.</p> <p>(c) 9 : 3 : 3 : 1</p> <p>Interpretation: Traits are independently inherited.</p> <p style="text-align: center;">OR</p> <p>(c)</p>	<p>$\frac{1}{2}, \frac{1}{2}$</p> <p>$\frac{1}{2}$</p> <p>$\frac{1}{2}$</p> <p>1</p> <p>1</p>	

	<div style="text-align: center;"> <p>(or with punnet square diagram)</p> </div>	$\frac{1}{2} \times 4$ 4
38.	<p>(a) Torches, search light, vehicles head lights, shaving mirrors, dentist's mirror, Solar furnaces. (any two)</p> <p>(b) $f = 15\text{cm}$ $R = 2f$ $R = 2 \times 15\text{ cm} = 30\text{ cm}$</p> <p>(c)</p> <div style="text-align: center;"> <p>(Note: $\frac{1}{2}$ mark to be deducted for not drawing the arrows.)</p> <p>OR</p> <p>(c)</p> <p>(i) $h = +10\text{cm}$ $u = -100\text{ cm}$ $v = -100\text{ cm}$ $\frac{1}{v} + \frac{1}{u} = \frac{1}{f}$ $-\frac{1}{100} - \frac{1}{100} = \frac{1}{f}$ $\frac{-2}{100} = \frac{1}{f}$ $f = -50\text{ cm}$</p> <p>Alternate answer for (i)</p> <p>Since $u = v$</p> <p>Therefore, object is placed at centre of curvature (C)</p> <p>$f = \frac{R}{2}$</p> </div>	$\frac{1}{2} + \frac{1}{2}$ $\frac{1}{2}$ $\frac{1}{2}$ 2 $\frac{1}{2}$ $\frac{1}{2}$