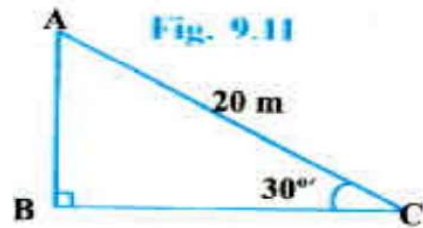


ਤਿਕੋਣਮਿਤੀ ਦੇ ਕੁਝ ਉਪਯੋਗ

- ਹੇਠ ਦਿੱਤੇ ਪ੍ਰਸ਼ਨਾਂ ਦੇ ਚਿੱਤਰ ਬਣਾ ਕੇ ਹੱਲ ਕਰਨ ਲਈ ਫਾਰਮੂਲਾ ਲਿਖੋ। ਜੇਕਰ ਕਿਸੇ ਪ੍ਰਸ਼ਨ ਵਿੱਚ ਚਿੱਤਰ ਦਿੱਤਾ ਹੈ ਤਾਂ ਸਿਰਫ ਹੱਲ ਕਰਨ ਲਈ ਫਾਰਮੂਲਾ ਲਿਖੋ।

1. A circus artist is climbing a 20 m long rope, which is tightly stretched and tied from the top of a vertical pole to the ground. Find the height of the pole, if the angle made by the rope with the ground level is  $30^\circ$  (see Fig. 9.11).



1. ਸਰਕਸ ਦਾ ਇੱਕ ਕਲਾਕਾਰ ਇੱਕ 20 m ਲੰਬੀ ਰੱਸੀ 'ਤੇ ਚੜ੍ਹ ਰਿਹਾ ਹੈ ਜੋ ਪੂਰੀ ਤਰ੍ਹਾਂ ਨਾਲ ਤਣੀ (ਕਸੀ) ਹੋਈ ਹੈ ਅਤੇ ਧਰਤੀ 'ਤੇ ਸਿੱਧੇ ਖੜੇ ਖੰਭੇ ਦੇ ਸਿਖਰ ਨਾਲ ਬੰਨੀ ਹੋਈ ਹੈ। ਜੇਕਰ ਰੱਸੀ ਧਰਤੀ ਦੇ ਤਲ ਨਾਲ  $30^\circ$  ਦਾ ਕੋਣ ਬਣਾਉਂਦੀ ਹੋਵੇ ਤਾਂ ਖੰਭੇ ਦੀ ਉੱਚਾਈ ਪਤਾ ਕਰੋ (ਦੇਖੋ ਚਿੱਤਰ 9.11)।



2. ਹਨੇਰੀ ਆਉਣ ਨਾਲ ਇੱਕ ਦਰੱਖਤ ਟੁੱਟ ਜਾਂਦਾ ਹੈ ਅਤੇ ਟੁੱਟਿਆ ਹੋਇਆ ਭਾਗ ਇਸ ਤਰ੍ਹਾਂ ਨਾਲ ਮੁੜ ਜਾਂਦਾ ਹੈ ਕਿ ਦਰੱਖਤ ਦਾ ਸਿਖਰ ਜਮੀਨ ਨੂੰ ਛੂਹਣ (touch) ਲੱਗਦਾ ਹੈ ਅਤੇ ਇਸਦੇ ਨਾਲ  $30^\circ$  ਦਾ ਕੋਣ ਬਣਾਉਂਦਾ ਹੈ। ਦਰੱਖਤ ਦੇ ਆਧਾਰ ਬਿੰਦੂ ਦੀ ਦੂਰੀ, ਜਿੱਥੇ ਦਰੱਖਤ ਦਾ ਸਿਖਰ ਜਮੀਨ ਨੂੰ ਛੂਹਦਾ ਹੈ, 8 m ਹੈ। ਦਰੱਖਤ ਦੀ ਉੱਚਾਈ ਪਤਾ ਕਰੋ।

2. A tree breaks due to storm and the broken part bends so that the top of the tree touches the ground making an angle  $30^\circ$  with it. The distance between the foot of the tree to the point where the top touches the ground is 8 m. Find the height of the tree.

3. A contractor plans to install two slides for the children to play in a park. For the children below the age of 5 years, she prefers to have a slide whose top is at a height of 1.5 m, and is inclined at an angle of  $30^\circ$  to the ground, whereas for elder children, she wants to have a steep slide at a height of 3 m, and inclined at an angle of  $60^\circ$  to the ground. What should be the length of the slide in each case?

3. ਇੱਕ ਠੇਕੇਦਾਰ ਬੱਚਿਆਂ ਦੇ ਖੇਡਣ ਵਾਲੇ ਇੱਕ ਪਾਰਕ ਵਿੱਚ ਦੋ ਤਿਲਕਣ ਪੱਟੀਆਂ (Slides) ਲਗਾਉਣਾ ਚਾਹੁੰਦਾ ਹੈ। 5 ਸਾਲ ਤੋਂ ਘੱਟ ਉਮਰ ਦੇ ਬੱਚਿਆਂ ਲਈ ਉਹ ਇਸ ਤਰ੍ਹਾਂ ਦੀ ਤਿਲਕਣਪੱਟੀ ਲਗਾਉਣਾ ਚਾਹੁੰਦਾ ਹੈ ਜਿਸਦਾ ਸਿਖਰ 1.5 m ਉੱਚਾਈ 'ਤੇ ਹੋਵੇ ਅਤੇ ਉਹ ਜ਼ਮੀਨ ਨਾਲ  $30^\circ$  ਕੋਣ 'ਤੇ ਝੁਕੀ ਹੋਵੇ, ਜਦੋਂ ਕਿ ਇਸ ਤੋਂ ਵੱਧ ਉਮਰ ਦੇ ਬੱਚਿਆਂ ਲਈ ਉਹ 3 m ਦੀ ਉੱਚਾਈ 'ਤੇ ਇੱਕ ਵੱਧ ਢਾਲ ਦੀ ਤਿਲਕਣਪੱਟੀ ਲਗਾਉਣਾ ਚਾਹੁੰਦਾ ਹੈ ਜੋ ਜ਼ਮੀਨ ਨਾਲ  $60^\circ$  ਦਾ ਕੋਣ ਬਣਾਉਂਦੀ ਹੋਵੇ। ਹਰ ਇੱਕ ਸਥਿਤੀ ਵਿੱਚ ਤਿਲਕਣਪੱਟੀ ਦੀ ਲੰਬਾਈ ਕਿੰਨੀ ਹੋਣੀ ਚਾਹੀਦੀ ਹੈ?

4. The angle of elevation of the top of a tower from a point on the ground, which is 30 m away from the foot of the tower, is  $30^\circ$ . Find the height of the tower.

4. ਜ਼ਮੀਨ ਦੇ ਇੱਕ ਬਿੰਦੂ ਤੋਂ ਜੋ ਮੀਨਾਰ ਦੇ ਆਧਾਰ ਬਿੰਦੂ ਤੋਂ 30 m ਦੀ ਦੂਰੀ 'ਤੇ ਹੈ, ਮੀਨਾਰ ਦੇ ਸਿਖਰ ਦਾ ਉੱਚਾਣ ਕੋਣ  $30^\circ$  ਹੈ। ਮੀਨਾਰ ਦੀ ਉੱਚਾਈ ਪਤਾ ਕਰੋ।

5. A kite is flying at a height of 60 m above the ground. The string attached to the kite is temporarily tied to a point on the ground. The inclination of the string with the ground is  $60^\circ$ . Find the length of the string, assuming that there is no slack in the string.

5. ਜਮੀਨ ਤੋਂ 60 m ਉੱਚਾਈ 'ਤੇ ਇੱਕ ਪਤੰਗ ਉੱਡ ਰਹੀ ਹੈ। ਪਤੰਗ ਨਾਲ ਲੱਗੇ ਧਾਗੇ ਨੂੰ ਅਸਥਾਈ ਰੂਪ ਵਿੱਚ ਜਮੀਨ 'ਤੇ ਇੱਕ ਬਿੰਦੂ ਨਾਲ ਬੰਨ ਦਿੱਤਾ ਗਿਆ ਹੈ। ਜਮੀਨ ਨਾਲ ਧਾਗੇ ਦਾ ਝੁਕਾਅ  $60^\circ$  ਹੈ। ਇਹ ਮੰਨਕੇ ਕਿ ਧਾਗੇ ਵਿੱਚ ਕੋਈ ਢਿਲ ਨਹੀਂ ਹੈ, ਧਾਗੇ ਦੀ ਲੰਬਾਈ ਪਤਾ ਕਰੋ।

6. A 1.5 m tall boy is standing at some distance from a 30 m tall building. The angle of elevation from his eyes to the top of the building increases from  $30^\circ$  to  $60^\circ$  as he walks towards the building. Find the distance he walked towards the building.

6. 1.5 m ਲੰਬਾ ਲੜਕਾ 30 ਮੀਟਰ ਉੱਚੀ ਇੱਕ ਇਮਾਰਤ ਤੋਂ ਕੁਝ ਦੂਰੀ 'ਤੇ ਖੜਾ ਹੈ। ਜਦੋਂ ਉਹ ਇਮਾਰਤ ਵੱਲ ਜਾਂਦਾ ਹੈ (ਚਲਦਾ ਹੈ) ਤਾਂ ਉਸਦੀ ਅੱਖ ਨਾਲ ਇਮਾਰਤ ਦੇ ਸਿਖਰ ਦਾ ਉੱਚਾਣ ਕੋਣ  $30^\circ$  ਤੋਂ  $60^\circ$  ਹੋ ਜਾਂਦਾ ਹੈ। ਦੱਸੋ ਕਿ ਉਹ ਇਮਾਰਤ ਵੱਲ ਕਿੰਨੀ ਦੂਰੀ ਤੱਕ ਚਲ ਕੇ ਗਿਆ।

7. From a point on the ground, the angles of elevation of the bottom and the top of a transmission tower fixed at the top of a 20 m high building are  $45^\circ$  and  $60^\circ$  respectively. Find the height of the tower.

7. ਜਮੀਨ ਦੇ ਇੱਕ ਬਿੰਦੂ ਤੋਂ ਇੱਕ 20 m ਉੱਚੀ ਇਮਾਰਤ ਦੇ ਸਿਖਰ 'ਤੇ ਲੱਗੇ ਸੰਚਾਰ ਮੀਨਾਰ (transmission tower) ਦੇ ਤਲ ਅਤੇ ਸਿਖਰ ਦਾ ਉੱਚਾਣ ਕੋਣ ਕ੍ਰਮਵਾਰ  $45^\circ$  ਅਤੇ  $60^\circ$  ਹੈ। ਸੰਚਾਰ ਮੀਨਾਰ ਦੀ ਉੱਚਾਈ ਪਤਾ ਕਰੋ।

8. A statue, 1.6 m tall, stands on the top of a pedestal. From a point on the ground, the angle of elevation of the top of the statue is  $60^\circ$  and from the same point the angle of elevation of the top of the pedestal is  $45^\circ$ . Find the height of the pedestal.

8. ਇੱਕ ਪੈਡਸਟਲ (Pedestal) ਦੇ ਸਿਖਰ 'ਤੇ ਇੱਕ 1.6 m ਉੱਚੀ ਮੂਰਤੀ ਲੱਗੀ ਹੋਈ ਹੈ। ਜਮੀਨ ਦੇ ਇੱਕ ਬਿੰਦੂ ਤੋਂ ਮੂਰਤੀ ਦੇ ਸਿਖਰ ਦਾ ਉੱਚਾਣ ਕੋਣ  $60^\circ$  ਹੈ ਅਤੇ ਇਸ ਹੀ ਬਿੰਦੂ ਤੋਂ ਪੈਡਸਟਲ ਦੇ ਸਿਖਰ ਦਾ ਉੱਚਾਣ ਕੋਣ  $45^\circ$  ਹੈ। ਪੈਡਸਟਲ ਦੀ ਉੱਚਾਈ ਪਤਾ ਕਰੋ।



9. The angle of elevation of the top of a building from the foot of the tower is  $30^\circ$  and the angle of elevation of the top of the tower from the foot of the building is  $60^\circ$ . If the tower is 50 m high, find the height of the building.

9. ਇੱਕ ਮੀਨਾਰ ਦੇ ਆਧਾਰ ਬਿੰਦੂ ਤੋਂ ਇੱਕ ਇਮਾਰਤ ਦੇ ਸਿਖਰ ਦਾ ਉੱਚਾਣ ਕੋਣ  $30^\circ$  ਹੈ ਅਤੇ ਇਮਾਰਤ ਦੇ ਆਧਾਰ ਬਿੰਦੂ ਤੋਂ ਮੀਨਾਰ ਦੇ ਸਿਖਰ ਦਾ ਉੱਚਾਣ ਕੋਣ  $60^\circ$  ਹੈ। ਜੇਕਰ ਮੀਨਾਰ 50 ਮੀਟਰ ਉੱਚੀ ਹੋਵੇ ਤਾਂ ਇਮਾਰਤ ਦੀ ਉੱਚਾਈ ਪਤਾ ਕਰੋ।

10. Two poles of equal heights are standing opposite each other on either side of the road, which is 80 m wide. From a point between them on the road, the angles of elevation of the top of the poles are  $60^\circ$  and  $30^\circ$ , respectively. Find the height of the poles and the distances of the point from the poles.

10. ਇੱਕ 80 ਮੀਟਰ ਚੌੜੀ ਸੜਕ ਦੇ ਦੋਵਾਂ ਪਾਸਿਆਂ 'ਤੇ ਆਹਮਣੇ ਸਾਹਮਣੇ ਬਰਾਬਰ ਲੰਬਾਈ ਵਾਲੇ ਦੋ ਖੰਭੇ ਲੱਗੇ ਹੋਏ ਹਨ। ਇਹਨਾਂ ਦੋਹਾਂ ਖੰਭਿਆਂ ਦੇ ਵਿੱਚ ਸੜਕ 'ਤੇ ਇੱਕ ਬਿੰਦੂ ਤੋਂ ਖੰਭਿਆਂ ਦੇ ਸਿਖਰਾਂ ਦਾ ਉੱਚਾਣ ਕੋਣ ਕ੍ਰਮਵਾਰ  $60^\circ$  ਅਤੇ  $30^\circ$  ਹੈ। ਖੰਭਿਆਂ ਦੀ ਉੱਚਾਈ ਅਤੇ ਖੰਭਿਆਂ ਤੋਂ ਬਿੰਦੂ ਦੀ ਦੂਰੀ ਪਤਾ ਕਰੋ।

11. A TV tower stands vertically on a bank of a canal. From a point on the other bank directly opposite the tower, the angle of elevation of the top of the tower is  $60^\circ$ . From another point 20 m away from this point on the line joining this point to the foot of the tower, the angle of elevation of the top of the tower is  $30^\circ$  (see Fig. 9.12). Find the height of the tower and the width of the canal.

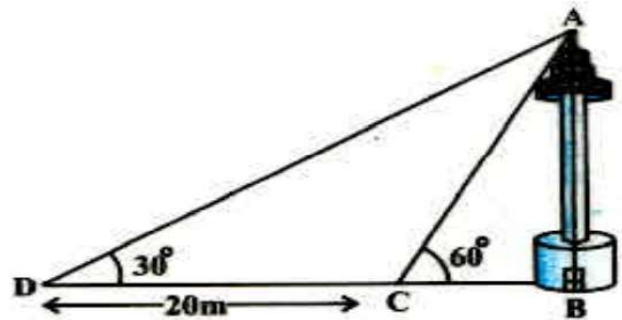
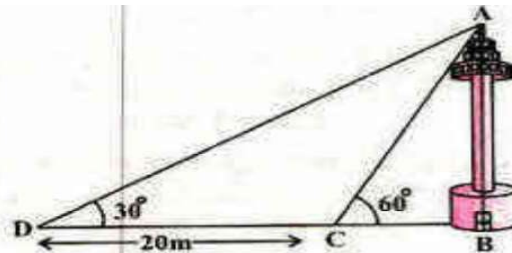


Fig. 9.12

11. ਇੱਕ ਨਹਿਰ ਦੇ ਇੱਕ ਤਟ 'ਤੇ ਇੱਕ ਟੀ.ਵੀ. ਟਾਵਰ ਸਿੱਧਾ ਖੜਾ ਹੈ। ਟਾਵਰ ਦੇ ਠੀਕ ਸਾਹਮਣੇ ਦੂਸਰੇ ਤਟ 'ਤੇ ਇੱਕ ਹੋਰ ਬਿੰਦੂ ਤੋਂ ਟਾਵਰ ਦੇ ਸਿਖਰ ਦਾ ਉੱਚਾਣ ਕੋਣ  $60^\circ$  ਹੈ। ਇਸੇ ਤਟ ਤੋਂ ਇਸ ਬਿੰਦੂ ਤੋਂ 20 m ਦੂਰ ਅਤੇ ਇਸ ਬਿੰਦੂ ਨੂੰ ਮੀਨਾਰ ਦੇ ਆਧਾਰ ਬਿੰਦੂ ਨਾਲ ਮਿਲਾਉਣ ਵਾਲੀ ਰੇਖਾ 'ਤੇ ਸਥਿਤ ਇੱਕ ਹੋਰ ਬਿੰਦੂ ਤੋਂ ਟਾਵਰ ਦੇ ਸਿਖਰ ਦਾ



ਚਿੱਤਰ 9.12

ਉੱਚਾਣ ਕੋਣ  $30^\circ$  ਹੈ (ਦੇਖੋ ਚਿੱਤਰ 9.12)। ਟਾਵਰ ਦੀ ਉੱਚਾਈ ਅਤੇ ਨਹਿਰ ਦੀ ਚੌੜਾਈ ਪਤਾ ਕਰੋ।

12. From the top of a 7 m high building, the angle of elevation of the top of a cable tower is  $60^\circ$  and the angle of depression of its foot is  $45^\circ$ . Determine the height of the tower.
12. 7 m ਉੱਚੀ ਇਮਾਰਤ ਦੇ ਸਿਖਰ ਤੋਂ ਇੱਕ ਕੇਬਲ ਟਾਵਰ ਦੇ ਸਿਖਰ ਦਾ ਉੱਚਾਣ ਕੋਣ  $60^\circ$  ਹੈ ਅਤੇ ਇਸਦੇ ਪੈਰ ਦਾ ਨੀਵਾਨ ਕੋਣ  $45^\circ$  ਹੈ। ਟਾਵਰ ਦੀ ਉੱਚਾਈ ਪਤਾ ਕਰੋ।

13. As observed from the top of a 75 m high lighthouse from the sea-level, the angles of depression of two ships are  $30^\circ$  and  $45^\circ$ . If one ship is exactly behind the other on the same side of the lighthouse, find the distance between the two ships.
13. ਸਮੁੰਦਰ ਤਲ ਤੋਂ 75 m ਉੱਚੇ ਲਾਈਟ ਹਾਊਸ ਦੇ ਸਿਖਰ ਤੋਂ ਦੇਖਣ ਨਾਲ ਦੋ ਸਮੁੰਦਰੀ ਜਹਾਜ਼ਾਂ ਦੇ ਨੀਵਾਨ ਕੋਣ  $30^\circ$  ਅਤੇ  $45^\circ$  ਹਨ। ਜੇਕਰ ਲਾਈਟ ਹਾਊਸ ਦੇ ਇੱਕ ਹੀ ਪਾਸੇ ਤੋਂ ਇੱਕ ਜਹਾਜ਼ ਦੂਸਰੇ ਜਹਾਜ਼ ਦੇ ਬਿਲਕੁਲ ਪਿਛੇ ਹੋਵੇ ਤਾਂ ਦੋਵੇਂ ਜਹਾਜ਼ਾਂ ਦੀ ਵਿਚਕਾਰਲੀ ਦੂਰੀ ਪਤਾ ਕਰੋ।

14. A 1.2 m tall girl spots a balloon moving with the wind in a horizontal line at a height of 88.2 m from the ground. The angle of elevation of the balloon from the eyes of the girl at any instant is  $60^\circ$ . After some time, the angle of elevation reduces to  $30^\circ$  (see Fig. 9.13). Find the distance travelled by the balloon during the interval.

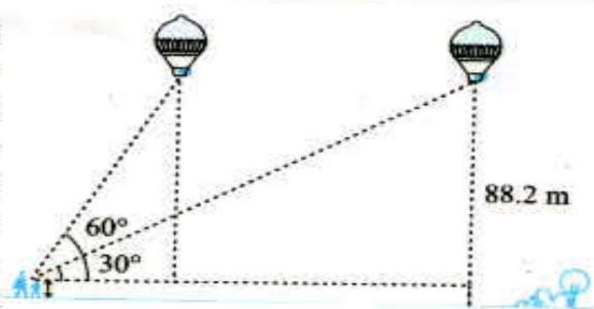
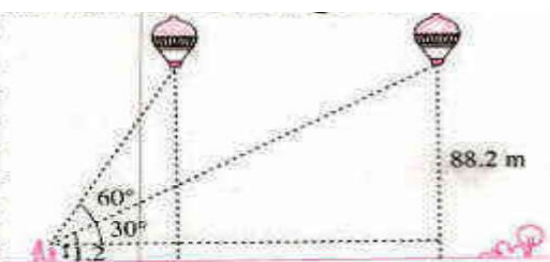


Fig. 9.13

14. 1.2 m ਲੰਬੀ ਇੱਕ ਲੜਕੀ ਜ਼ਮੀਨ ਤੋਂ 88.2 m ਦੀ ਉੱਚਾਈ 'ਤੇ ਇੱਕ ਖਿਤਿਜ ਰੇਖਾ ਵਿੱਚ ਉੱਡ ਰਹੇ ਗੁਬਾਰੇ ਨੂੰ ਦੇਖਦੀ ਹੈ। ਕਿਸੇ ਵੀ ਸਮੇਂ ਲੜਕੀ ਦੀ ਅੱਖ ਨਾਲ ਗੁਬਾਰੇ ਦਾ ਉੱਚਾਣ ਕੋਣ  $60^\circ$  ਹੈ। ਕੁਝ ਸਮੇਂ ਬਾਦ ਉੱਚਾਣ ਕੋਣ ਘੱਟ ਕੇ  $30^\circ$  ਹੋ ਜਾਂਦਾ ਹੈ (ਦੇਖੋ ਚਿੱਤਰ 9.13)। ਇਸ ਅੰਤਰਾਲ ਦੌਰਾਨ ਗੁਬਾਰੇ ਦੁਆਰਾ ਤੈਅ ਕੀਤੀ ਦੂਰੀ ਪਤਾ ਕਰੋ।



ਚਿੱਤਰ 9.13

15. A straight highway leads to the foot of a tower. A man standing at the top of the tower observes a car at an angle of depression of  $30^\circ$ , which is approaching the foot of the tower with a uniform speed. Six seconds later, the angle of depression of the car is found to be  $60^\circ$ . Find the time taken by the car to reach the foot of the tower from this point.

15. ਇੱਕ ਸਿੱਧਾ ਰਾਜ ਮਾਰਗ ਇੱਕ ਮੀਨਾਰ ਦੇ ਆਧਾਰ ਤੱਕ ਜਾਂਦਾ ਹੈ। ਮੀਨਾਰ ਦੇ ਸਿਖਰ 'ਤੇ ਖੜਾ ਇੱਕ ਆਦਮੀ ਇੱਕ ਕਾਰ ਨੂੰ  $30^\circ$  ਦੇ ਨੀਵਾਨ ਕੋਣ 'ਤੇ ਦੇਖਦਾ ਹੈ, ਜੋ ਮੀਨਾਰ ਦੇ ਆਧਾਰ ਵੱਲ ਇੱਕ ਸਮਾਨ ਚਾਲ ਨਾਲ ਆ ਰਹੀ ਹੈ। ਛੇ ਸੈਕਿੰਡ ਬਾਦ ਕਾਰ ਦਾ ਨੀਵਾਨ ਕੋਣ  $60^\circ$  ਹੋ ਗਿਆ। ਇਸ ਬਿੰਦੂ ਤੋਂ ਮੀਨਾਰ ਦੇ ਆਧਾਰ ਤੱਕ ਪਹੁੰਚਣ ਲਈ ਕਾਰ ਦੁਆਰਾ ਲਿਆ ਗਿਆ ਸਮਾਂ ਪਤਾ ਕਰੋ।

16. The angles of elevation of the top of a tower from two points at a distance of 4 m and 9 m from the base of the tower and in the same straight line with it are complementary. Prove that the height of the tower is 6 m.

16. ਮੀਨਾਰ ਦੇ ਆਧਾਰ 'ਤੇ ਇੱਕ ਸਰਲ ਰੇਖਾ 4 m ਅਤੇ 9 m ਦੀ ਦੂਰੀ 'ਤੇ ਸਥਿਤ ਦੋ ਬਿੰਦੂਆਂ ਤੋਂ ਮੀਨਾਰ ਦੇ ਸਿਖਰ ਦੇ ਉੱਚਾਣ ਕੋਣ ਪੂਰਕ ਕੋਣ ਹਨ। ਸਿੱਧ ਕਰੋ ਕਿ ਮੀਨਾਰ ਦੀ ਉੱਚਾਈ 6 m ਹੈ।