

3 بھوپال کا ایک تفریحی سفر (A Trip to Bhopal)

آج سنگدھا بہت جوش و خروش میں ہے۔ اس کے اسکول کے سبھی بچے اپنے اساتذہ کے ساتھ ایک تفریحی سفر پر بھوپال جا رہے ہیں۔ میناکشی میڈم اور راکیش سر ضرورت کے مطابق بسوں کی تعداد کے سلسلہ میں گفتگو کر رہے ہیں۔



میناکشی میڈم — ہم لوگوں کو چار بسوں کی ضرورت پڑے گی۔
 راکیش سر — میرا خیال ہے کہ ہمیں کم از کم پانچ بسیں چاہئیں۔
 میناکشی میڈم — ہر بس میں 50 سیٹیں ہوتی ہیں۔
 راکیش سر — آئیے دیکھیں کتنے بچے جا رہے ہیں۔

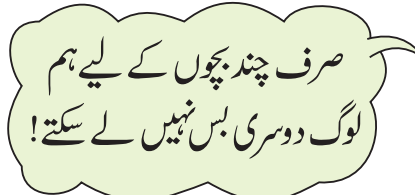
درجہ	بچوں کی تعداد
I	33
II	32
III	42
IV	50
V	53
	کل

کیا ہمیں چار بسوں کی ضرورت ہے؟ ایک بس میں 50 بچے جا سکتے ہیں، 4 بسوں میں $50 \times 4 = 200$ بچے جا سکتے ہیں۔

اس لیے کل ملا کر..... بچے جا رہے ہیں۔

اگر ان لوگوں کو چار بسیں مل جائیں تو کتنے بچوں کو جگہ ملے گی؟

کیا کچھ بچے ایسے بھی ہوں گے جنہیں جگہ نہیں ملے گی؟



بچوں کی ہمت افزائی کرنی چاہیے کہ وہ پہلے اندازہ لگائیں اور پھر کسی بھی طریقے سے اس مسئلہ کا حل ڈھونڈیں۔ یہ اہم ہے کہ ان طریقوں پر بحث کی جائے جن کا استعمال بچے مسئلہ حل کرنے کے لیے کرتے ہیں۔



سفر شروع ہوتا ہے

جیسے ہی بس چلنا شروع کرتی ہے، بچے اپنی زوردار آواز میں گاتے ہیں۔ کچھ ہرے بھرے میدانوں اور پہاڑیوں کا مزہ لینے کے لیے باہر کی طرف دیکھتے ہیں۔
اندرا — ہم لوگ بھوپال کب پہنچیں گے؟
آشا میڈم — اگر ہم کہیں نہ روکیں تو ہمیں دو گھنٹے میں پہنچنا چاہیے، یعنی _____ بجے کے آس پاس۔



اب آؤ، جلدی اندر چلو۔
ونج چکے ہیں۔

- منجیت — کیا یہ بہت دور ہے؟
بھیم سین سر — تقریباً 70 کلومیٹر دور ہے۔
روبی — کیا ہم لوگ کہیں رکنے جا رہے ہیں؟
راکش سر — ممکن ہے کہ بھیم بیٹکا میں، جو یہاں سے تقریباً 50 کلومیٹر کی دوری پر ہے۔

✳ اگر وہ لوگ بھیم بیٹکا جاتے ہیں، وہ لوگ وہاں پہنچیں گے۔

— 10 بجے کے پہلے

— 10 اور 11 بجے کے بیچ

— 11 بجے کے بعد

جب وہ لوگ بات کر رہے ہوتے ہیں، بہادر چلا تا ہے۔ اوہو! نرمدا کی طرف دیکھو۔ سبھی لوگ کھڑکی سے باہر کی جانب دیکھتے ہیں۔

روبی — واہ واہ! یہ کتنی لمبی اور کتنی چوڑی ہے!
آؤ اندازہ لگائیں کہ یہ کتنی چوڑی ہے۔





بسوں کے لیے انتظار
صاحبہ قطار سے کود کر باہر یہ دیکھنے کے لیے آتی ہے کہ
بسیں آرہی ہیں یا نہیں۔ وہ زور سے چلاتی ہے.....
اوہو! میں انھیں دیکھ سکتی ہوں۔ دوڑو! کھڑکی کے پاس
والی سیٹ پر قبضہ کرو۔
جوش کے مارے کئی بچے کودنے لگتے ہیں۔ لیکن.....

رک جاؤ! یہ کیا ہے؟ بسیں
بہت چھوٹی ہیں!

اب وہاں ایک بحث ہوتی ہے۔

ہم لوگوں کے پاس بڑی بسیں
زیادہ نہیں ہیں۔ اس لیے ہم لوگ
کئی چھوٹی بسیں لاتے ہیں۔



ہم لوگوں نے آپ سے
بڑی بسیں لانے کو کہا تھا!



ہر چھوٹی بس 35 بچوں کو لے جاسکتی ہے۔ کتنی چھوٹی بسوں کی
ضرورت ہے؟



گوپی — اوں..... اوں..... 100 میٹر نہیں، یہ بہت زیادہ ہے۔ نہیں کہہ سکتا۔

وکتوریا — یہ ضرور آدھے کلو میٹر سے زیادہ ہوگی۔

آشامیڈم — دیکھو، یہ لکھا ہے۔ 'یہ پُل 756.82 میٹر لمبا ہے۔ اس لیے ہم لوگ اندازہ لگا سکتے ہیں کہ نرمدا اس جگہ پر تقریباً 500 میٹر چوڑی ضرور ہوگی۔



❖ کیا وکتوریا صحیح تھی؟

صدف — میں 500 میٹر کا اندازہ نہیں لگا سکتی۔

آشامیڈم — دیکھو، ہماری بس تقریباً 5 میٹر لمبی ہے۔ اندازہ لگاؤ کہ اس پُل پر کتنی بسیں ایک قطار میں کھڑی ہو سکتی ہیں۔



❖ کیا آپ نے کبھی کسی لمبے پُل کو پار کیا ہے؟ وہ تقریباً کتنے میٹر لمبا تھا؟


سبھی نیچے ندی کی طرف دیکھتے ہیں۔

راکیش سر — پانی کی سطح اب کافی نیچے ہے۔ یہ پُل سے ضرور 40 میٹر نیچے ہوگا۔

آشامیڈم — لیکن برسات کے موسم میں پانی اوپر آ گیا تھا۔ ان دنوں پانی پُل سے صرف 15 میٹر نیچے تھا۔



❖ ابھی اور موسمِ برسات میں نرمدا کے پانی کی سطح کے درمیان کیا فرق ہے؟ میٹر




بچے کچھ وقت تک ندی کے متعلق گفتگو کرتے ہیں



شکر — اس رنگ آمیزی (پینٹنگ) میں بھی بہت بڑے بھینسے نما جانور ہیں۔ ارے مجھے ایک خیال آیا۔ میں بھینس نما جانوروں کو گنوں گا۔ اور تم رنگ آمیزی میں ہرن کی گنتی کرو۔

بونو مالا — میں لوگوں کو گنوں گی۔ دیکھیں کون سب سے زیادہ ہیں۔ بھینس نما جانور، ہرن یا لوگ۔



❖ بھینس نما جانور کے مقابلے ہرن کتنے زیادہ ہیں؟

لیکن بونو مالا سب سے زیادہ خوش ہے کیونکہ لوگوں کی تعداد ہرن اور بھینس نما جانوروں کی مجموعی تعداد سے بھی زیادہ ہے۔ اس کی گنتی 200 سے کم ہے۔



❖ بونو مالا نے کتنے لوگوں کو یقیناً گنا ہے؟

177 / 134 / 154 / 214

گانڈ انھیں بتاتا ہے کہ کل ملا کر 600 غار۔ رنگ آمیزیاں (Cave Paintings) ہیں۔ اب بھیم پیٹکا سے نکلنے کا وقت ہو گیا ہے۔

❖ ان لوگوں نے وہاں ایک گھنٹہ گزارا۔ ابھی کتنا وقت ہو رہا ہے؟

اب وہ لوگ بھوپال کی طرف جارہے ہیں۔ انھیں وہاں ایک گھنٹہ سے کم وقت میں پہنچنا چاہیے۔ تقریباً _____ بجے۔



بھیم بیٹکا کے لیے

بسوں میں ڈیزل بھرنے کے بعد سفر دوبارہ شروع ہوا، بچوں کو بتا دیا گیا کہ وہ بھیم بیٹکا پر رکیں گے،

انجو — بھیم بیٹکا کیا ہے۔

رینا میڈم — یہ ایک جگہ ہے جہاں بہت سی غاریں ہیں اور ان غاروں میں بہت سی پینٹنگ ہیں جو کہ دس ہزار سال پہلے لوگوں نے بنائیں تھیں۔

سومونتو — دس۔۔۔ ہزار۔۔۔ سال! میں تو ایک ہزار سال قبل بھی نہیں سوچ سکتا!

گوپی — اوہ! ایک ہزار سال تو بڑی چیز ہے، میں تو ایک سو سال کے بارے میں بھی نہیں سوچ سکتا۔

گوری — میں 100 سال کے بارے میں سوچ سکتی ہوں کیونکہ میرے والد کی دادی کی عمر 100 سال ہے۔


منجیت — اس کا مطلب یہ ہوا کہ وہ غاریں تقریباً 100 پرادیوں جتنی قدیم ہیں!!

ہر ایک زوردار تھقہہ لگاتا ہے۔ ہا! ہا! ہا!

اب بچے غاروں کی رنگ آمیزی (Cave Painting) دیکھنے کے لیے یقیناً جوش و خروش سے لبریز ہیں۔ ابھی تقریباً 11 بجے ہیں جبکہ وہ بھیم بیٹکا پہنچے ہیں۔

واہ! یہ چٹانیں
ہزاروں سال پرانی ہیں!

واہ! 1000 سال پہلے بھی
لوگ اس قسم کی پاری پینٹنگ
بناتے تھے، وہ بھی چٹانوں پر۔





D ایک عدد سوچے جو 2، 3 اور 5 سے

تقسیم ہو سکتا ہو اور 25 سے 50 کے

درمیان آتا ہو۔

E

ایک چھوٹی چیونٹی ایک منٹ میں 3 سینٹی میٹر چڑھتی ہے لیکن 2 سینٹی میٹر پھسل جاتی ہے۔ 2 سینٹی میٹر چڑھنے میں وہ کتنا وقت لے گی؟

کیا آپ ان سوالات کو حل کر سکتے ہو؟ انہیں حل کرنے کی کوشش کیجیے۔

ہم لوگوں کو کون سی ناؤ لینی چاہیے؟

وہ لوگ معمول میں اس قدر کھوئے ہوئے تھے کہ انہیں پتہ ہی نہیں چلا کہ وہ لوگ جھیل پر پہنچ چکے ہیں۔ یہ ایک بہت بڑی جھیل ہے جس میں ایک چھوٹا سا ٹاپو بھی ہے۔

اس وقت جھیل بہت خوبصورت لگتی ہے۔ یہاں بہت ساری بٹخیں ہیں جو تیز شور غل مچاتی ہیں۔ کچھ بچے انہیں کھانے کے لیے مٹا کی کھیلیں دیتے ہیں۔



اب الفت انگیز حصہ آتا ہے! یہ کشتی کے سفر پر جانے کا وقت ہے۔ انہیں طے کرنا ہے کہ کس کشتی کو لینا چاہیے۔ لیکن یہ آسان نہیں ہے۔



کھانے کا وقت

بچوں کو اس وقت تک بھوک لگ چکی ہے اس لیے وہ اپنے کھانے کا پیکٹ نکالتے ہیں۔ سبھی بسوں میں بسکٹ، سنترے اور کیلے بھی تقسیم کیے جاتے ہیں۔



ہر بچے کو ایک سنترہ، ایک کیلا اور 5 بسکٹ دینے ہیں۔



سبھی بچے سنترے اور بسکٹ لیتے ہیں لیکن 38 بچے کیلے نہیں لیتے۔



✧ کتنے سنترے، بسکٹ اور کیلے تقسیم کیے گئے؟

منجیت اور بھانو جلدی اپنا کھانا ختم کرتے ہیں اور وقت گزارنے کے لیے معمہ (Puzzles) حل کرنا شروع کرتے ہیں۔



منجیت — وہ عدد بتائیے جو 100 اور 150 کے بالکل درمیان ہے۔

بھانو — 120..... نہیں، 130..... نہیں، یہ 125 ہے۔

منجیت — صحیح، بالکل ٹھیک! اب تم پوچھو۔

دوسرے بچے اس میں شامل ہوتے ہیں۔ ہر ایک مشکل سوال پوچھ رہا ہے۔

B 3، 5 اور 7 کا استعمال کر کے آپ کون کون سے عدد بنا سکتے ہیں؟ آپ 357 اور 537 بنا سکتے ہیں۔ دوسرے اور کون سے اعداد؟

C جب کسی عدد میں 8 جوڑا جاتا ہے تو دو گنا ہو جاتا ہے۔ وہ عدد کیا ہے؟



A میں نے اپنے چار دوستوں میں

سے ہر ایک کو چار چار ٹافیاں دیں اور

تین ٹافیاں میرے پاس بچی رہ گئیں۔

میرے پاس کتنی ٹافیاں تھیں؟

بچوں سے اس طرح کے کئی سوالات یا معمے حل کرنے کے لیے زبانی یا لکھ کر پوچھے جاسکتے ہیں۔ وہ سوالات یا معمے کو حل کرنے کے لیے جو طریقہ اختیار کرتے ہیں ان کی وضاحت کرنے کے لیے ان کی ہمت افزائی کرنی چاہئے۔



ہائے! ہم لوگ ڈبل ڈیکر پر جا رہے ہیں۔ اس میں میوزک بھی ہے۔ یہ بہت مہنگی ہے مگر ہم لوگوں کو زیادہ وقت ملے گا۔



آؤ ہم لوگ پتوار والی کشتی لیتے ہیں۔ یہ مہنگی نہیں ہے اور ہم لوگوں کو پر امن سفر کے لیے زیادہ وقت ملے گا۔



✱ اندرا اور بھانو پہلے موٹر کشتی میں گئے، اور پھر پتوار والی کشتی لی۔

ان لوگوں نے دونوں کشتیوں کے لیے کتنی رقم ادا کی؟ _____ روپیہ

دونوں سفر کے لیے انھیں کتنا وقت ملا؟ _____

✱ بچوں کا ایک گروپ ڈبل ڈیکر کے سفر پر گیا۔ ان لوگوں نے کل 450 روپیہ ادا کیے۔ ڈبل ڈیکر سے سفر پر کتنے بچے گئے؟ _____

✱ کون سی کشتی ایک گھنٹہ میں دو چکر لگاتی ہے؟ _____

✱ کون سی کشتی ایک چکر پورا کرنے میں آدھا گھنٹہ سے کم وقت لگاتی ہے؟ _____

✱ کون سی کشتی کم سے کم پیسہ لے کر زیادہ سے زیادہ وقت تک ان لوگوں کو گھماتی ہے؟ _____

✱ جاوید دوبار کشتی کی سیر پر گیا۔ اس نے کل 40 روپیہ ادا کیے اور 50 منٹ تک کشتی کی سواری کی۔ اس نے کون سی دو کشتیاں لیں؟ _____

واپسی کا وقت

بچوں نے 4 بجے تک مختلف کشتیوں کی سواری کا مزہ لیا۔ اب وہ لوگ کہیں بھی نہیں رکیں گے اور دو گھنٹوں میں واپس ہوں گے۔

اس لیے، ان لوگوں کو ہوشنگ آباد _____ بجے پہنچ جانا چاہیے۔





یہاں مختلف قسم کی کشتیاں ہیں۔ ہر ایک کا ٹکٹ اور سفر کا وقفہ مختلف ہے۔

کشتی کا نام	ٹکٹ کی قیمت	وقفہ سفر
1 ڈبل۔ ڈیکر	30 روپیے	45 منٹ
2 پیڈل کشتی	15 روپیے	30 منٹ
3 موٹر کشتی	25 روپیے	20 منٹ
4 پتوار والی کشتی	15 روپیے	45 منٹ



ہم لوگ موٹر کشتی لیں گے
یہ مہنگی ہے لیکن مزیدار اور
دلچسپ ہے۔



ہم لوگوں میں سے چار ایک پیڈل کشتی
لیں گے اور گوری اور اس کے گروپ کے
ساتھ مقابلہ کریں گے۔



ٹکٹ کی قیمت اور وقفہ سفر دکھا رہے جدول کے بنیاد پر کتاب میں کچھ سوالات دیے گئے ہیں۔ بچوں کو خود کئی سوالات بنانے کے لیے متحرک کرنا چاہیے۔

معلوم کیجیے

کیا آپ اسکول سے کبھی تفریحی سفر پر گئے ہیں؟ اس میں کل کتنے بچے تھے؟ آپ کیسے گئے اور کتنے دور گئے؟ اس میں کتنا وقت لگا؟ ہر ایک بچے کے لیے سفر کا خرچ معلوم کرنے کی کوشش کیجیے۔

مشق کا وقت

1- نیچے چار بہت قدیم غار پینٹنگ دی گئی ہیں۔ سب سے پرانی پر نشان لگائیے۔

- (a) 4200 سال پرانی (b) 1000 سال پرانی
(c) 8500 سال پرانی (d) 1300 سال پرانی

2- ایک بس 48 بچوں کو لے جاسکتی ہے۔ تین بسیں کتنے بچوں کو لے جاسکتی ہیں؟ تقریباً.....

- (a) 100 (b) 200 (c) 150

3- مندرجہ ذیل میں سے اعداد کے کون سے جوڑے مل کر 500 سے زیادہ بناتے ہیں۔

- (a) 152 اور 241 (b) 321 اور 192
(c) 99 اور 299 (d) 401 اور 91

4- کس وقت کیا ہوا ہے؟ ملانے کے لیے لائن کھینچیے۔

نرمداپل کو عبور کیا	3:00 بجے شام
بھیم پیٹکا پینٹنگ کو دیکھا	6:00 بجے شام
پیٹرول پمپ پر	9:10 بجے صبح
جھیل میں کشتی سواری	12:30 بجے دوپہر
کھانا کھایا	11:30 بجے دن
ہوشنگ آباد واپسی	9:30 بجے صبح