

Name :

Roll No

नवीन पाठ्यक्रम / New Syllabus

कुल प्रश्नों की संख्या : 22 |
Total No. of Questions : 22 |

| कुल मुद्रित पृष्ठों की संख्या : 11
| Total No. of Printed Pages : 11

O-212102-A

विषय : भूगोल
Subject : Geography

समय : 3 घण्टे]
Time : 3 hours]

[पूर्णांक : 70
[Maximum Marks : 70

- निर्देश** : (i) सभी प्रश्न हल करना अनिवार्य है। प्रश्नों की कुल संख्या 22 है।
Instructions : All questions are compulsory. There are 22 questions.
- (ii) प्रश्न क्रमांक 1 से 7 तक अतिलघु उत्तरीय प्रश्न हैं। प्रत्येक प्रश्न में 1 अंक निर्धारित है।
Question Nos. 1 to 7 are very short answer type questions. Each question carries 1 mark.
- (iii) प्रश्न क्रमांक 8 से 13 तक लघु उत्तरीय प्रश्न हैं। प्रत्येक प्रश्न में 3 अंक निर्धारित हैं।
(उत्तर की शब्द-सीमा 50 शब्दों तक है)
Question Nos. 8 to 13 are short answer type questions. Each question carries 3 marks. (Maximum word-limit of answer is 50 words)
- (iv) प्रश्न क्रमांक 14 से 20 तक दीर्घ उत्तरीय प्रश्न हैं। प्रत्येक प्रश्न में 5 अंक निर्धारित हैं।
(उत्तर की शब्द-सीमा 150 शब्दों तक है)
Question Nos. 14 to 20 are long answer type questions. Each question carries 5 marks. (Maximum word-limit of answer is 150 words)
- (v) प्रश्न क्रमांक 10, 15, 16, 18 एवं 22 में आंतरिक विकल्प दिए गए हैं।
In Question Nos. 10, 15, 16, 18 and 22 internal options are given.

- (vi) दृष्टि बाधित छात्र, जिन प्रश्नों में मानचित्र अंकन अथवा रेखाचित्र दिए गए हैं, उनके स्थान पर उनकी प्रामाणिक/विशेषताओं के 1-1 बिन्दु लिखेंगे।

Visually impaired students will write 1-1 point of speciality of that places in the map-making questions.

- (vii) श्रवण बाधित छात्र दीर्घ उत्तरीय प्रश्नों के उत्तर, व्याख्या एवं वर्णन के स्थान पर केवल बिन्दुवार लिखेंगे।

Hearing impaired students will write the long answer type questions with points only.

- (viii) प्रश्न क्रमांक 21 और 22 नक्शा कौशल पर आधारित हैं, जिसमें चिह्नित बिन्दुओं की पहचान करना और प्रदर्शित करना है। प्रत्येक प्रश्न में 5 अंक निर्धारित हैं।

Question Nos. 21 and 22 are related to identification or locating and labelling of map, carrying 5 marks in each question.

प्रश्न-1/ खनन से क्या तात्पर्य है? [1]
What do you mean by 'mining'?

प्रश्न-2/ ज्वन पर आधारित उद्योगों के दो नाम लिखिए। [$\frac{1}{2} + \frac{1}{2} = 1$]
Write two names of forest-based industries.

प्रश्न-3/ 'दूरसंचार' शब्द से क्या आशय है? [1]
What do you mean by 'telecommunication'?

प्रश्न-4/ भारत का जनसंख्या घनत्व सन् 2011 की जनगणना के अनुसार कितना है? 5 [1]
How much was the population density of India according to the Census of 2011?

प्रश्न-5/ टिस्को क्या है? [1]
What is TISCO?

प्रश्न-6/ भारत में किस राज्य को 'धान का कटोरा' कहा जाता है? [1]
Which state in India is called 'bowl of rice'?

प्रश्न-7/ 'शुष्क-भूमि कृषि' किसे कहते हैं? [1]
What do you mean by 'dryland farming'?

प्रश्न-8/ आयात एवं निर्यात में तीन अंतर लिखिए। [1]
Write three differences in Import and Export.

प्रश्न-9 'मिश्रित कृषि' की किन्हीं तीन विशेषताओं को लिखिए।
Write any **three** characteristics of 'mixed agriculture'.

[1×3=3]

प्रश्न-10 विश्व का व्यस्ततम समुद्री मार्ग कौन सा है और क्यों?
Which is the busiest sea route in the world and why?

[1+2=3]

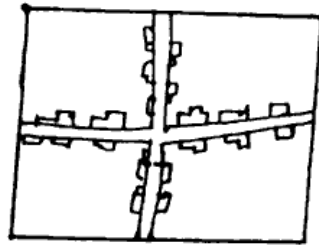
अथवा
OR

ट्रांस-साइबेरियन रेलमार्ग पर एक टिप्पणी लिखिए (कोई तीन बिन्दु)।
Write a note on the Trans-Siberian Railway (any **three** points).

[1+1+1=3]

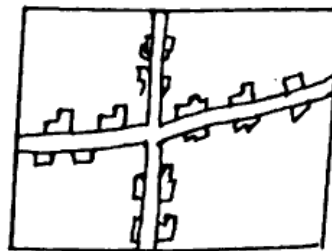
प्रश्न-11 नीचे दिए गए चित्र को देखकर प्रश्नों के उत्तर दीजिए :

[1+1+1=3]



- (अ) इस ग्रामीण बस्ती प्रतिरूप का नाम लिखिए।
- (ब) ऐसे प्रतिरूप कहाँ पर मिलते हैं ?
- (स) इस प्रतिरूप की एक विशेषता लिखिए।

Study the diagram given below and answer the questions :



- (a) Write the name of this rural settlement pattern.
- (b) In which areas do you find this rural settlement pattern?
- (c) Write one characteristic feature of this settlement pattern.

प्रश्न-12 भारत में अन्तर्राष्ट्रीय प्रवास के कारकों की व्याख्या कीजिए। [1+3=4]

Explain the causes of international migration to India

प्रश्न-13 सूखा सम्भाव्य क्षेत्र विकास कार्यक्रम के तीन मुख्य उद्देश्य बताइए। [1+1+1=3]

State the **three** main objectives of the drought prone area development programme.

प्रश्न-14 मानव भूगोल की परिभाषा लिखते हुए मानव के प्रकृतिकरण की व्याख्या कीजिए। [2+3=5]

Define human geography and explain the naturalization of man.

प्रश्न-15 भारत में 2011 के स्त्री साक्षरता का प्रतिशत कितना है ? भारत में स्त्री शिक्षा के स्थानिक स्वरूप को समझाइए (कोई चार बिन्दु)। [1+4=5]

How much female literacy rate in India in 2011? Explain the local pattern of female literacy of India (any **four** points).

अथवा

OR

जनसंख्या वृद्धि से क्या तात्पर्य है ? भारत में जनसंख्या वृद्धि की प्रावस्थाओं का वर्णन कीजिए। [1+1+1+1+1=5]

What is meant by population growth? Describe the phases of population growth in India.

प्रश्न-16 संसार में प्रचलित 'रोपण कृषि' की किन्हीं पाँच विशेषताओं का वर्णन कीजिए। [1+1+1+1+1=5]

Describe any **five** features of 'plantation agriculture' practised in the world.

अथवा

OR

प्राथमिक एवं द्वितीयक क्रियाएँ किसे कहते हैं? प्राथमिक एवं द्वितीयक क्रियाओं में क्या अन्तर है (कोई तीन)?

[1+1+3=5]

What are primary and secondary activities? What are the differences between primary and secondary activities (any *three*)?

प्रश्न-17 भारत में जल संसाधनों की कमी के लिए उत्तरदायी किन्हीं पाँच कारकों की व्याख्या कीजिए।

[1×5=5]

Explain any five factors responsible for depletion of water resources in India.

प्रश्न-18 छत्तीसगढ़ में सिंचाई व्यवस्था न होती, तो कृषि पर क्या प्रभाव पड़ता? लिखिए (कोई पाँच)।

[1+1+1+1+1=5]

Where there was no irrigation facilities in Chhattisgarh, agriculture would have been affected. Write what effects (any *five*).

अथवा

OR

छत्तीसगढ़ में मिलने वाले प्रमुख खनिज पदार्थों का वर्णन कीजिए।

Describe the major minerals available in Chhattisgarh.

प्रश्न-19 सेवा सेक्टर में कौन-कौन से व्यवसाय आते हैं? संक्षिप्त व्याख्या करते हुए चार्ट के माध्यम से समझाइए।

[1+2+2=5]

Which businesses come in the service sector? Briefly explain through the chart.

प्रश्न-20 भारत में उद्योगों की स्थिति को प्रभावित करने वाले किन्हीं पाँच कारकों का वर्णन कीजिए।

[1+1+1+1+1=5]

Describe any *five* factors that influence the location of industries in India.

प्रश्न-21 विश्व के राजनीतिक सीमाकार मानचित्र में दर्शाए गए निम्नलिखित बिन्दुओं को

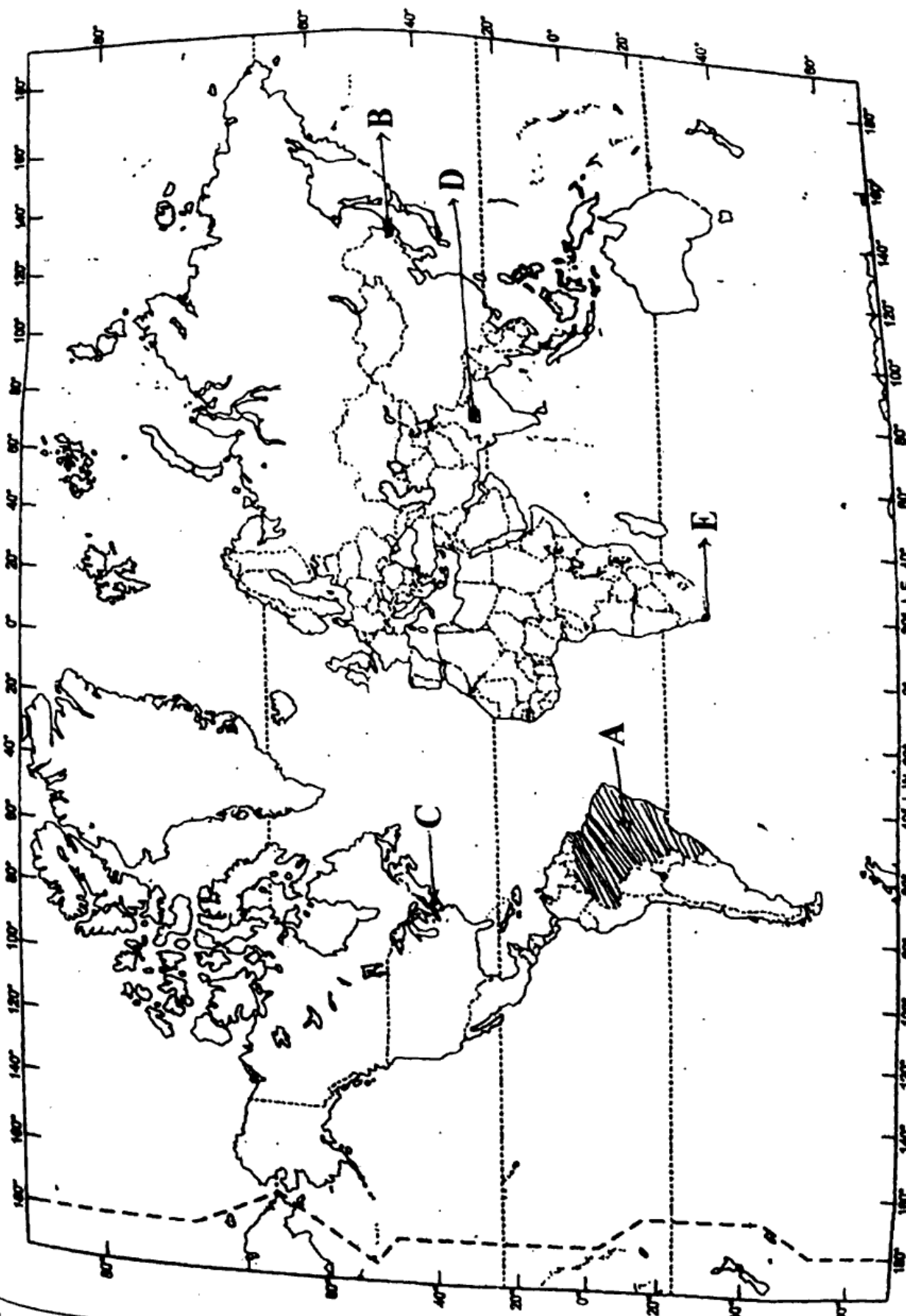
पहचानिए तथा उनके नाम उत्तर-पुस्तिका में लिखिए :

[1+1+1+1+1=5]

- (A) दक्षिण अमेरिका का सबसे बड़ा क्षेत्रफल वाला देश
- (B) ट्रांस-साइबेरियन रेलमार्ग का प्रथम स्टेशन का नाम
- (C) एक मेगा सिटी
- (D) एक अंतर्राष्ट्रीय हवाई अड्डा
- (E) एक बड़ा बंदरगाह

In the given political outline map of the world, identify following points and write their names in your answer-book :

- (A) The largest country in South America in area
- (B) Name of the first station of the Trans-Siberian Railway
- (C) A mega city
- (D) An international airport
- (E) A major sea port



~~प्रश्न-22~~ छत्तीसगढ़ के चिह्नांकित मानचित्र में निम्नांकित को पहचानिए तथा उनके नाम अपनी

उत्तर-पुस्तिका में लिखिए :

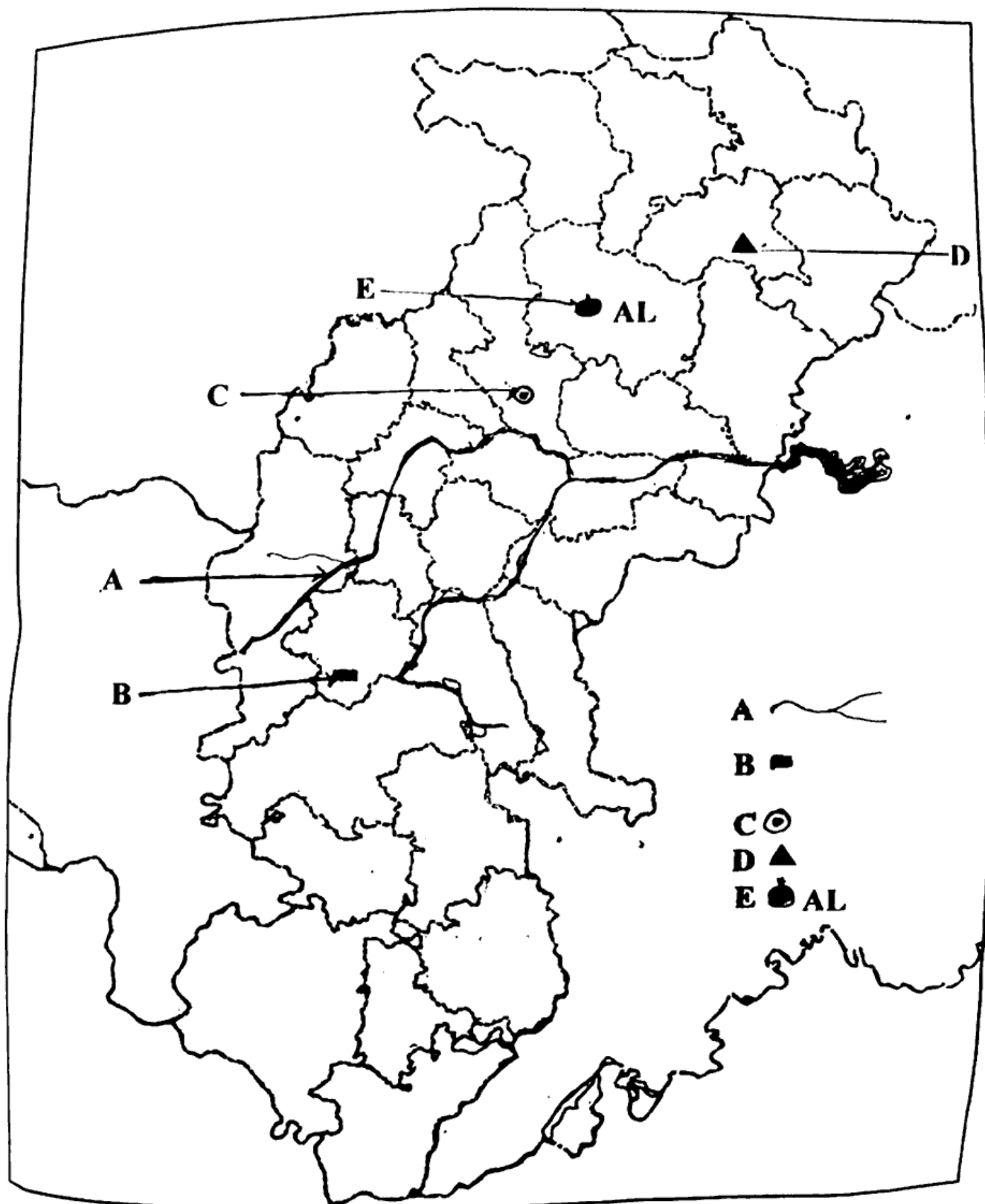
[1+1+1+1+1=5]

- (A) महानदी की मुख्य सहायक नदी
- (B) दुर्ग (बालोद) का लौह-अयस्क खदान
- (C) छत्तीसगढ़ की न्यायिक राजधानी
- (D) छत्तीसगढ़ का शिमला
- (E) छत्तीसगढ़ का एक प्रमुख एल्युमिनियम उद्योग

In the sign marked map of Chhattisgarh, identify the following and

write their names in your answer-book :

- (A) Main tributary river of Mahanadi
- (B) Iron-ore mine of Durg (Balod)
- (C) The judicial capital in Chhattisgarh
- (D) The Shimla of Chhattisgarh
- (E) A prominent aluminium industry of Chhattisgarh



[10]

अथवा

OR

भारत के राजनीतिक सीमाकार मानचित्र में निम्नलिखित का पता लगाइए एवं मंकेंतों के

साथ लेबल कीजिए :

[10+10+15]

(A) भारत का सबसे अधिक क्षेत्रफल वाला राज्य

(B) अरावली पर्वत

(C) कोलकाता से दिल्ली रेलमार्ग

(D) नर्मदा नदी

(E) भारत का मरुस्थल क्षेत्र

In the given political outline map of India locate and label the following with symbols :

(A) The state having highest area in India

(B) Aravalli Mountain

- (C) The train route of Delhi from Kolkata
- (D) Narmada river
- (E) Desert region of India

—x—